

COPERVE
COMISSÃO PERMANENTE
DO CONCURSO VESTIBULAR

CONCURSO
VESTIBULAR
UNIFICADO

92

ESTUDOS SOCIAIS
(História, Geografia e OSPB)

--	--	--	--	--	--

Inscrição

Assinatura do Candidato

UNIVERSIDADE FEDERAL DA PARAÍBA
INSTITUTOS PARAIBANOS DE EDUCAÇÃO
POLÍCIA MILITAR DA PARAÍBA

**PROVA
DE
ESTUDOS SOCIAIS**

Duração: 4 horas.

1ª PARTE – QUESTÕES DISSERTATIVAS : Utilizar os espaços correspondentes da "Folha de Resposta".

A – HISTÓRIA GERAL E DO BRASIL

Questão:

TEXTO Nº 1	TEXTO Nº 2
<p><i>“ ... retroceder às origens do consumo de drogas e à sua mercantilização até a histórica “Guerra do Ópio” (1839-1842) que a Grã-Bretanha impôs à China (...) o papel da França colonial na produção e exportação de ópio mesmo antes da Segunda Guerra Mundial; (...) o papel que a CIA desempenhou no fomento desse comércio para obter fundos extras e autônomos, além de não sujeitos ao controle legislativo dos Estados Unidos a partir dos anos 50; e (...) os ataúdes dos soldados norte-americanos mortos no Vietnã e transportados para os Estados Unidos, continham suculentos contrabandos de heroína.”</i></p>	<p><i>“ ... A partir de Washington imputou-se à Nicarágua e a Cuba, entre outras cargas satanizadoras (...) a de ser escalas de narcotráfico, ao mesmo tempo em que se continua silenciando sobre os casos tão incômodamente comprovados da Jamaica sob Edward Seaga, do Haiti sob os Duvalier, as Bahamas de Sua Majestade Britânica, e bandos de contra-revolucionários da CIA que empreenderam um negócio autônomo na Costa Rica e em Honduras para obter fundos adicionais.”</i></p>
<p>FONTE: SELSER, Gregório. Conflito de Baixa Intensidade, a Nova Denominação de Contra-Insurreição. In CUEVA, Agustín (org). Tempos Conservadores. São Paulo, Hucitec, 1989: 39-63. pp. 61-62.</p>	

— Correlacione os textos acima com o adágio popular: “ Faça o que eu mando, não faça o que eu faço.”

B – GEOGRAFIA GERAL E DO BRASIL

Questão:

“... não é nas zonas áridas e semi-áridas do interior nordestino onde as pessoas comem pior, como equivocadamente se crê. O Sertão (...) padece fomes periódicas. Porém, é no Litoral úmido onde se padece a fome endêmica. Ali, onde mais opulenta é a opulência, mais miserável se forma a miséria; a região eleita pela Natureza para produzir todos os alimentos, nega-os todos. (...) O alimento das minorias converte-se em fome das maiorias. Como de costume, a expansão expandiu a fome.” GALEANO, Eduardo. *As veias abertas da América Latina*. Rio de Janeiro. Paz e Terra, 1978, p. 75.

- Com base no texto acima, justifique a existência da miséria no Litoral.

C – ORGANIZAÇÃO SOCIAL E POLÍTICA DO BRASIL

Questão:

No dia 4 de setembro de 1990, Cristiano, 16 anos, e seu irmão Elias, de 17 anos, foram arrastados de casa, no Bairro de Peixinhos, periferia de Olinda, por três homens armados. No dia seguinte foram encontrados assassinados. Seus corpos estavam com as mãos amarradas para trás, sem os dedos, com os órgãos genitais decepados e com marcas de queimaduras de cigarro. Sua mãe, Marlene, disse: – “Não vai adiantar de nada dar queixa. Eles eram meninos de rua mesmo!” Marlene é lavadeira, ex-prostituta e alcoólatra. Já teve 13 filhos, dos quais cinco moravam na rua e três já foram mortos. (“VEJA” - 29/4/91).

- Refletindo-se sobre o relato acima, poder-se-ia afirmar que a pena de morte resolveria os graves problemas sociais do Brasil, inclusive, o alto índice de criminalidade? Por quê?

2ª PARTE – QUESTÕES DE MÚLTIPLA ESCOLHA : n.ºs 01 a 40. Cada questão tem 5 (cinco) alternativas, das quais apenas uma é a correta.

A – HISTÓRIA GERAL E DO BRASIL

01. O filósofo Aristóteles, em sua obra *Política*, escrita no século IV a.C., classificou os regimes políticos existentes na sociedade grega e apontou as suas respectivas degenerações, às quais deu o nome de governos viciados. A esse respeito, pode-se afirmar :

I – Tirania é o governo viciado da aristocracia.

II – Oligarquia é o governo viciado da democracia.

III – Demagogia é o governo viciado da República.

IV – Aristocracia é o governo viciado da oligarquia.

Está(ão) correta(s) apenas a(s) afirmativa(s)

a) I e IV

b) II

c) I e II

d) III

e) I e III

02. *“O século XIV é um século de insurreições rurais e urbanas (...) Assistimos então a uma crise social intensa: insurreições camponesas causadas pelo agravamento das condições dos servos e insurreições urbanas pelo aumento da distância social dentro da corporação, pois o produtor perde de modo crescente o controle do mercado, proletarizando-se.”*

FONTE: KOSHIBA, Luiz e PEREIRA, Denise M. F. *História do Brasil*. 3 ed. São Paulo, Atual, 1980. p. 5.

O texto acima se refere aos seguintes processos:

I – Desvalorização do trabalho servil, motivada pelo crescimento da população rural.

II – Ampliação das obrigações servis, ocasionada pelas necessidades financeiras dos senhores.

III – Desorganização do trabalho corporativo, provocada pelo crescimento da população urbana.

IV – Intensificação dos serviços, determinada pelos mestres de ofício aos jornaleiros.

Está(ão) correta(s) apenas a(s) afirmativa(s)

a) I e III

b) II e IV

c) I, II e III

d) III e IV

e) IV

04. É muito comum o argumento de que o Brasil é um país “atrasado”, porque foi colonizado por portugueses, enquanto outros países, como os Estados Unidos, são desenvolvidos, porque foram colonizados por “povos mais adiantados”. No entanto, esta versão é completamente equivocada à luz do conhecimento histórico. É a formação histórica dos dois países que estabelece as bases da diferenciação atual.

Com base nesta reflexão, as lacunas do trecho

A América Portuguesa configurou-se economicamente como.
..... e politicamente como. enquanto as Treze Colô-
nias Inglesas se caracterizaram como. ao nível econômi-
co e como. em termos políticos.

são preenchidas, respectivamente, por

- a) colônia de povoamento/Estado centralizado/colônias de povoamento/Estado centralizado.
- b) colônia de exploração/autogoverno/colônias de exploração/autogoverno.
- c) colônia de exploração/Estado centralizado/colônias de povoamento/autogoverno.
- d) colônia de povoamento/Estado centralizado/colônias de exploração/autogoverno.
- e) colônia de exploração/autogoverno/colônias de povoamento/Estado centralizado.

05.

PROPOSIÇÃO Nº 1	PROPOSIÇÃO Nº 2
<i>A monarquia absolutista era desvinculada dos estamentos sociais do Antigo Regime.</i>	<i>“ ... segundo a teoria do direito divino, o rei recebe o poder de Deus e apenas a ele deve prestar contas de sua ação à frente do Estado.”</i>
FONTE: PEDRO, Antonio e CÁCERES F. <i>História Geral</i> . São Paulo, Moderna, 1981 p. 147. (2ª proposição).	

Considerando-se as proposições sobre o absolutismo, pode-se afirmar que

- a) a primeira é falsa e a segunda, verdadeira.
- b) a primeira é verdadeira e contradiz a segunda.
- c) a primeira é verdadeira e a segunda, falsa.
- d) ambas são verdadeiras e a segunda justifica a primeira.
- e) ambas são falsas e não se relacionam.

“ ... e que a Paraíba se acha hoje tão diminuta nas capitâneas de todo o Brasil, a respeito das minas para onde desertou a maior parte de seus moradores, levando consigo os escravos (...) que nenhum senhor de engenho comprava escravo algum dos muitos que vieram da Costa da Mina (...). E que a falência da lavoura canavieira na Paraíba era tal, que se devia temer que em breves tempos se venha a perder de todo se lhes não acudir.”

FONTE: Carta do Capitão-Mor ao Conselho Histórico Ultramarino de Lisboa, em 02.10.1725. Apud SANTANA, Martha M. Falcão de Carvalho M. **Nordeste, Açúcar e Poder**; um estudo da oligarquia açucareira na Paraíba 1920-1962. João Pessoa, CNPq/UFPB, 1990. p. 164.

Da leitura do trecho do documento acima, pode-se inferir a ocorrência da

- a) carestia da mão-de-obra escrava na Paraíba, em relação à Capitania das Gerais.
- b) diminuição territorial da Paraíba, provocada pela perda do poder aquisitivo dos produtores.
- c) evasão da mão-de-obra paraibana, atraída pela dinâmica de um novo espaço colonial.
- d) oferta excessiva de mão-de-obra na lavoura canavieira, decorrente da queda do comércio africano.
- e) proteção dos proprietários paraibanos aos escravos nativos, em relação aos da Costa da Mina.

07. Em abril de 1992, ocorrerá o bicentenário do enforcamento de Tiradentes. Sobre o episódio, a poesia, ao lado, evidencia:

- I – A repressão do Estado metropolitano à Inconfidência, diferenciada por classes sociais.
- II – A displicência das autoridades metropolitanas diante dos descaminhos do ouro.
- III – A convivência das autoridades metropolitanas com os potentados locais de Vila Rica.
- IV – O suborno do poder público pelos contratadores do ouro envolvidos na Inconfidência.

*“Vice-reis, governadores,
chanceleres e ministros;
por serem tão vassalos,
não pensam mais nos amigos:
mas há muita barra de ouro
secretamente a caminho;
mas há pedras, mas há gado
prestando tanto serviço
que os culpados com dinheiro
sempre escapam ao castigo.*

*.....
Já vem o peso da vida,
já vem o peso do tempo:
pergunta pelos culpados
que não passarão tormentos,
e pelos nomes ocultos
dos que nunca foram presos.”*

FONTE: MEIRELES, Cecília. **Romanceiro da Inconfidência**. São Paulo, Círculo do Livro, s. d. p. 160.

Está(ão) correta(s) apenas a(s) afirmativas

- a) II e III
- b) II
- c) I e IV
- d) III
- e) I, III e IV

PROPOSIÇÃO Nº 1

PROPOSIÇÃO Nº 2

“O pan-americanismo, nascido da Doutrina Monroe, foi uma política voltada, formalmente, para a defesa dos direitos do continente.”

O pan-americanismo impossibilitou a concretização da unidade latino-americana.

FONTE: TEIXEIRA, M. P. **História da América**. 10.ed. São Paulo, Ática, 1989. pp. 53-54.(1ª proposição)

Considerando-se as proposições sobre o pan-americanismo, pode-se afirmar que

- a) apenas a primeira é verdadeira.
- b) apenas a segunda é verdadeira.
- c) ambas são verdadeiras e a segunda confirma a primeira.
- d) ambas são verdadeiras e a segunda condiciona a primeira.
- e) ambas são falsas.

09. As revoltas regenciais (Sabinada, Balaiada, Cabanagem) e o Cangaço são acontecimentos ocorridos em períodos históricos diversos, mas guardam semelhanças entre si, EXCETO por

- a) constituírem protestos contra a opressão e a miséria.
- b) caracterizarem-se pela falta de um projeto político definido.
- c) ocorrerem em território da atual região nordestina.
- d) consistirem em movimentos claramente fanático-religiosos.
- e) fracassarem em virtude da dura repressão do poder público.

10. Na segunda metade do século XIX, o Brasil, a Argentina e o Uruguai (Tríplice Aliança), depois de uma guerra de mais de cinco anos, derrotaram militarmente o Paraguai. Porém, a verdadeira vencedora do confronto foi a Inglaterra PORQUE:

- I – O financiamento militar à Tríplice Aliança reforçou a hegemonia britânica na América Latina.
- II – O Brasil alcançou sua autonomia econômica, como prêmio por sua participação no conflito.
- III – O Paraguai perdeu a sua autonomia econômica e passou à órbita comercial inglesa.
- IV – O território paraguaio foi parcialmente desmembrado e passou para o domínio inglês.

Está(ão) correta(s) apenas a(s) afirmativa(s)

- a) II
- b) I e III
- c) IV
- d) II e III
- e) I e IV

11. No quadro ao lado, encontra-se uma expressão comparativa entre a unificação e a reunificação alemã, acompanhada dos seus respectivos significados.

A expressão que está preenchida, corretamente, é

$$\frac{C}{C_1} = \frac{U}{U_1} = \frac{R}{R_1}$$

Onde:

C = condicionante da unificação

C₁ = condicionante da reunificação

U = unificação

U₁ = reunificação

R = resultado da unificação

R₁ = resultado da reunificação

- a) $\frac{\text{ascensão do feudalismo}}{\text{ascensão do liberalismo}} = \frac{U}{U_1} = \frac{\text{consolidação da nobreza territorial}}{\text{consolidação da burguesia}}$
- b) $\frac{\text{queda do absolutismo}}{\text{ascensão do liberalismo}} = \frac{U}{U_1} = \frac{\text{declínio da aristocracia territorial}}{\text{ascensão da burguesia}}$
- c) $\frac{\text{apogeu do nacionalismo}}{\text{apogeu do liberalismo}} = \frac{U}{U_1} = \frac{\text{crise da burguesia}}{\text{consolidação da burguesia}}$
- d) $\frac{\text{ascensão do socialismo}}{\text{auge do liberalismo}} = \frac{U}{U_1} = \frac{\text{fortalecimento do proletariado}}{\text{fortalecimento da burguesia}}$
- e) $\frac{\text{auge do liberalismo}}{\text{crise do socialismo}} = \frac{U}{U_1} = \frac{\text{consolidação da aristocracia territorial}}{\text{consolidação da burguesia}}$

Taxas de desenvolvimento comparativo: taxas médias anuais de crescimento *per capita*

	França	Alemanha	Itália	Grã-Bretanha	Estados Unidos
antes da Primeira Guerra (1870-1913)	1.4	1.8	0.7	1.3	2.2
depois da Segunda Guerra (1948-1962)	3.4	6.8	5.6	2.4	1.8 (1950-1964)

FONTE: Robert L. Heilbroner. A formação da sociedade econômica. Apud NADAI, Elza e NEVES, Joana. **História Geral: Moderna e Contemporânea**. 7.ed. São Paulo, Saraiva, 1980. p. 238.

Observando-se os índices do quadro acima, constata-se que, após a 2ª Guerra Mundial, acelerou-se o crescimento econômico dos países da Europa Ocidental, chegando mesmo a ultrapassar o crescimento da economia norte-americana. Esse processo resultou basicamente da

- a) supressão das taxas alfandegárias entre os países socialistas europeus.
- b) criação de mercados nacionais para os produtos europeus ocidentais.
- c) nacionalização dos bens de produção pelos governos europeus ocidentais.
- d) adoção de uma política de bem-estar social por governos conservadores.
- e) redução do auxílio financeiro do governo norte-americano aos países ocidentais.

“ ... podem-se perceber claramente três fases no comportamento do salário-mínimo real: a primeira, entre os anos 1944 e 1951, reduz pela metade o poder aquisitivo do salário; a segunda, entre os anos 1952 e 1957, mostra recuperações e declínios alternando-se na medida do poder político dos trabalhadores: é a fase do segundo governo Vargas que se prolonga até o primeiro ano do Governo Kubitschek; a terceira, iniciando-se no ano 1958, é marcada pela deterioração do salário-mínimo real, numa tendência que se agrava pós-anos 64, com apenas um ano de reação, em 1961, que coincide com o início do governo Goulart.”

FONTE: OLIVEIRA, Francisco de. **A economia brasileira**: crítica à razão dualista. São Paulo, Brasiliense/CEBRAP, 1976. p. 42.

A partir da leitura do texto acima, a exata correlação entre o período de comportamento do salário-mínimo real e o seu respectivo contexto histórico é

- a) 1952-1957: mobilização da classe trabalhadora como estratégia da política nacionalista.
- b) 1944-1951: negação às reivindicações das massas, na ótica do desenvolvimentismo conservador.
- c) 1958-pós 64: arrocho do movimento trabalhista, na perspectiva da redemocratização liberal.
- d) 1952-1957: atendimento às reivindicações trabalhistas, em coerência com a modernização conservadora.
- e) 1944-1951: expropriação dos trabalhadores, segundo uma política liberal nacionalista.



A nova favela cresce rapidamente e as construções são feitas pelos próprios favelados.

FONTE: Capital já tem mais uma favela. **A União**. João Pessoa, 22 de maio de 1981.

A crescente favelização de João Pessoa, a exemplo de muitas outras cidades do país e da região, é decorrente dos seguintes processos:


- I – Contínua industrialização da capital paraibana, subsidiada pelo Governo Federal.
- II – Constante falta de terrenos para moradia, preservados por motivos ecológicos.
- III – Elevada concentração de terras no campo, produzida pela modernização agrícola.
- IV – Intensa especulação imobiliária, motivada pela valorização segregativa do solo.

Estão corretas apenas as afirmativas

- a) I e IV b) III e IV c) I, II e IV d) II e III e) I, II e III

15. O presidente Collor tem utilizado intensamente a mídia para veicular suas mensagens de governo. O “slogan” correto para a camiseta ao lado, relativa às realizações do Governo Collor, é

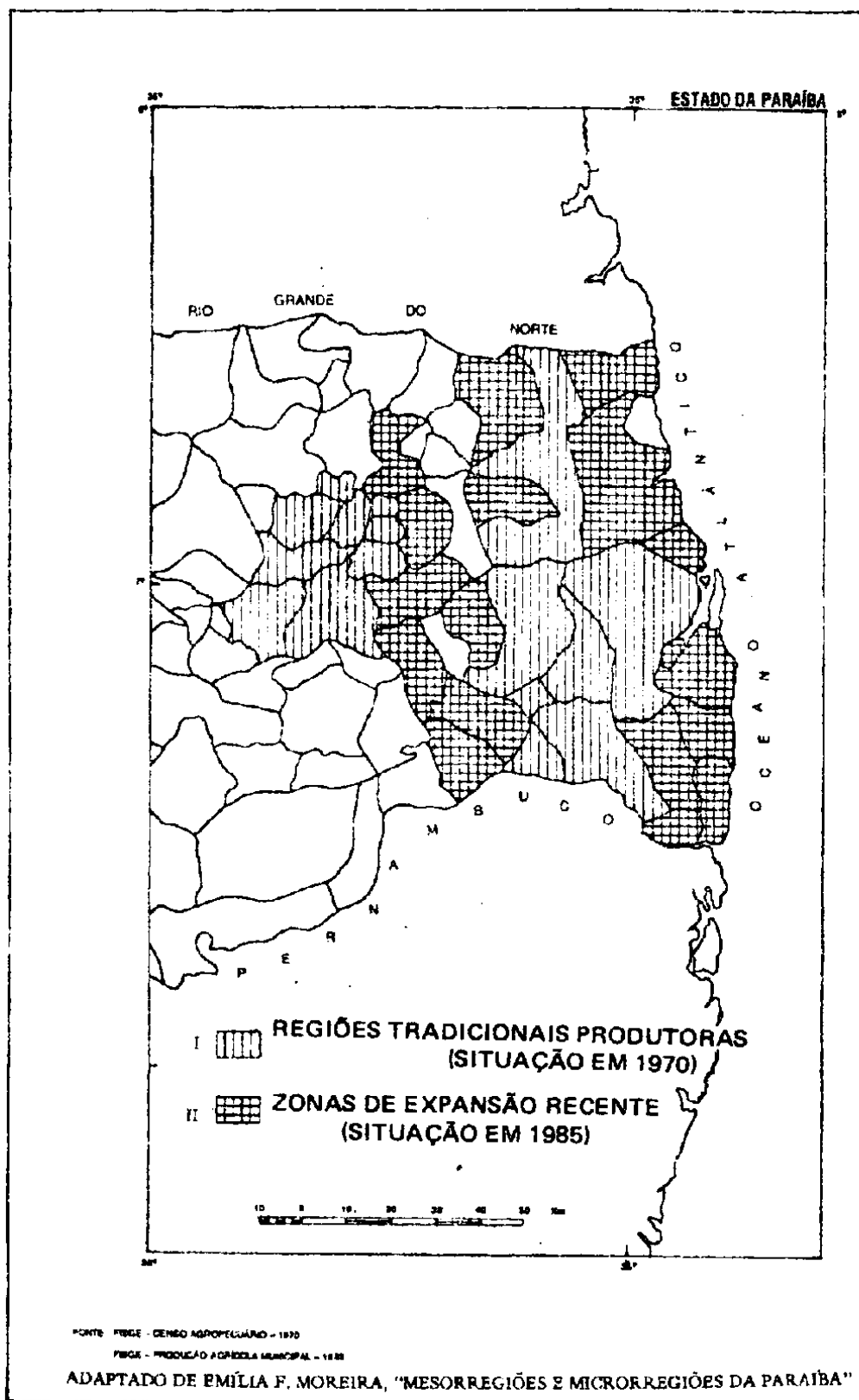
- a) “Em defesa do Patrimônio Público.
- b) “Parlamentarismo-Já!”
- c) “Pela dignidade do trabalhador.”
- d) “Entregar para não integrar.”
- e) “Democracia, Medida Provisória.”



GEOGRAFIA GERAL E DO BRASIL

16. Existe racismo no Brasil, pois fomos colonizados pelo europeu que, além de ter importado o negro africano para escravizá-lo, subjugou as populações indígenas.
- Com base na afirmação acima, pode-se concluir que
- o negro, assim como o índio, resistiu bravamente, durante todo o período colonial, ao processo de aculturação.
 - ser negro no Brasil significa pertencer à classe minoritária economicamente privilegiada.
 - o negro, culturalmente, não teve acesso às mesmas condições de formação que uma grande parte dos brancos, não por uma questão de cor, mas de posição social.
 - a população indígena é respeitada, quando está em seu território.
 - a existência atual do racismo no Brasil é tão declarada que oficialmente é assumida pelo Estado.
17. O atendimento às exigências do Fundo Monetário Internacional, a partir de dezembro de 1982, contribuiu para gerar a crise em que o Brasil se encontra. As alternativas encontradas pelo governo brasileiro, para o pagamento da dívida externa, trouxeram como consequência
- o aumento da renda per capita brasileira.
 - a redução do salário real dos trabalhadores.
 - a redução no valor do imposto sobre circulação de mercadorias e serviços (ICMS).
 - o aumento das importações e das exportações vinculadas à dívida externa.
 - a reformulação da política tributária com a criação de novos subsídios.
18. Os países independentes, no período entre as duas guerras mundiais, anexados pela URSS em 1940 e que restauraram sua independência em 1991, são
- | | |
|---|-----------------------------------|
| a) Moldávia, Afeganistão e Tcheco-eslováquia. | d) Polônia, Hungria e Iugoslávia. |
| b) Iugoslávia, Romênia e Albânia. | e) Estônia, Letônia e Lituânia. |
| c) Tcheco-eslováquia, Hungria e Romênia. | |
19. Durante muito tempo, afirmou-se que a Amazônia era o “pulmão do mundo”. Essa afirmativa foi questionada e considerada cientificamente incorreta, pois se concluiu que havia outros interesses, além da preservação ecológica. Pode-se dizer que esse interesse mundial está ligado à
- expansão da camada de ozônio.
 - pesquisa de recursos naturais por grupos transnacionais.
 - aculturação dos povos indígenas.
 - preservação da soberania nacional.
 - manutenção do potencial de oxigênio da floresta.

20. As legendas I e II do cartograma abaixo correspondem às principais zonas produtoras de



a) abacaxi

b) cana-de-açúcar

c) algodão

d) acerola

e) caju

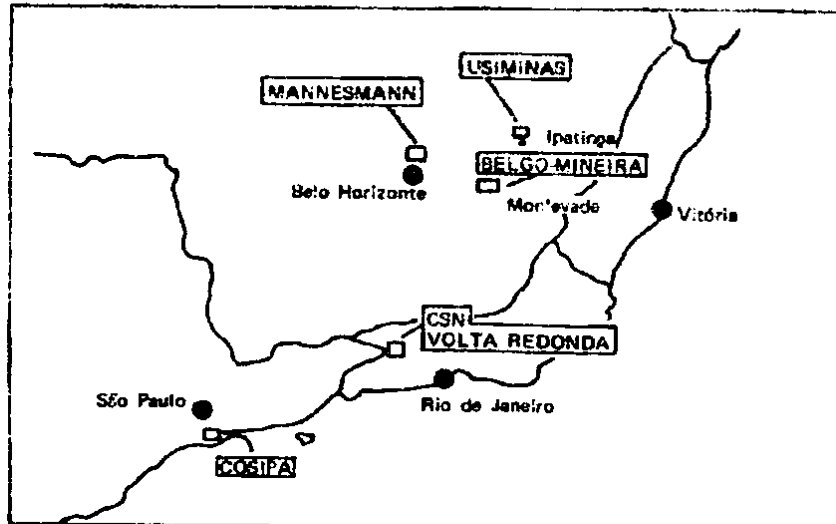
21. Brasil, Argentina, México, África do Sul, Coréia do Sul, Hong-Kong, Formosa, Cingapura e Maláisia correspondem ao conjunto de países
- a) subdesenvolvidos industrializados.
 - b) em plena modernidade.
 - c) produtores de petróleo.
 - d) de alta densidade demográfica.
 - e) de alta produtividade agrícola.
22. As Constituições brasileiras de 1930 e 1934 estabeleceram cotas restritivas à imigração estrangeira. Esta restrição ocorreu porque
- a) não havia mais terras disponíveis no Sudeste, e os imigrantes europeus não se adaptavam ao clima tropical.
 - b) toda a imigração estrangeira se dirigia para o Sul e Sudeste do país, provocando um desequilíbrio regional e acarretando problemas de desnacionalização.
 - c) os imigrantes japoneses e alemães, com o seu nacionalismo exacerbado, provocavam lutas internas pela posse das terras.
 - d) o imigrante europeu era possuidor de um elevado nível de consciência política, fato que tornava a migração interna (Nordeste-Sudeste) mais interessante, tanto para o empregador como para o governo.
 - e) os imigrantes formavam colônias onde mantinham brasileiros sob um regime de semi-escravidão (ou colonato), fato que provocou a revolta dos constituintes.
23. O processo de urbanização das praias de Tambaú e Manaíra, na capital paraibana, vem provocando, nos últimos anos, um sério problema à salubridade das águas do mar. Pode-se atribuir esse problema
- a) aos hábitos culturais dos banhistas de fim-de-semana.
 - b) à poluição dos rios pelo vinhoto procedente das destilarias de álcool.
 - c) ao crescimento desordenado do turismo em João Pessoa.
 - d) à criação do pólo turístico Costa do Sol.
 - e) às ligações clandestinas de esgotos nas galerias pluviais localizadas na orla marítima.

- 24 O cartograma abaixo, intitulado "Uma nação estilhaçada" ("ISTO É" - 3/7/91), remete a problemas que ocorrem

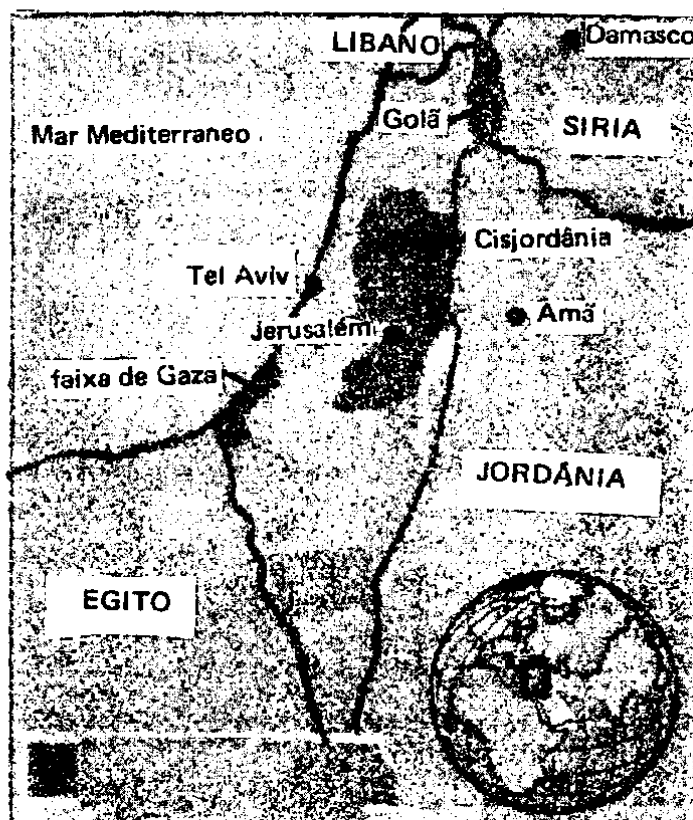


- a) no Oriente Médio
 b) na Macedônia
 c) na URSS
 d) nos Países Bálticos
 e) na Iugoslávia

25. O cartograma abaixo mostra a localização de



- a) refinarias de petróleo.
 b) usinas siderúrgicas.
 c) corredores de exportação de minérios.
 d) fábricas de automóveis (FIAT, por exemplo).
 e) centros produtores de minério de ferro.



As áreas assinaladas na legenda do cartograma acima (adaptado da “Folha de São Paulo”) correspondem a

- territórios bombardeados pelos foguetes iraquianos.
- zonas de litígio entre os países árabes e os palestinos.
- territórios ocupados por Israel.
- territórios disputados entre Egito, Jordânia e Síria.
- “zona de segurança”, proposta pela ONU, para o plano de paz no Oriente Médio.

27. O subdesenvolvimento representa um tipo de poluição humana localizada em alguns setores abusivamente explorados pelas grandes potências industriais do mundo. O subdesenvolvimento não é, como muitos pensam equivocadamente, insuficiência ou ausência de desenvolvimento. O subdesenvolvimento é um produto ou um subproduto do desenvolvimento, uma derivação inevitável da exploração econômica colonial ou neocolonial que continua se exercendo sobre diversas regiões do planeta (...)

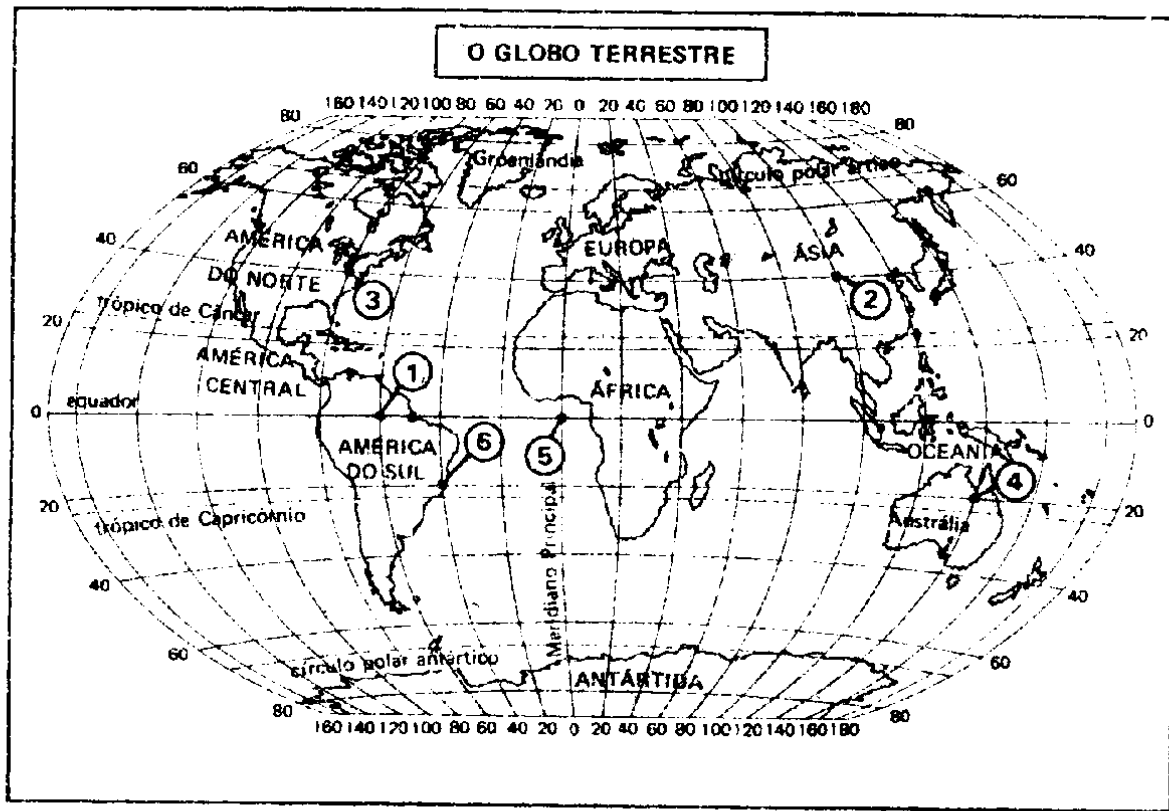
CASTRO, Josué de. "Subdesenvolvimento: causa primeira da poluição." In: *O Correio*. Rio de Janeiro, Unesco/FGV, 1973. N.º 3, ano I, p. 20-4.

Confrontando-se os textos acima (transcritos por J. Vesentini, "Sociedade e Espaço"), pode-se afirmar que

- a) o primeiro é parcialmente verdadeiro.
- b) ambos são verdadeiros e o segundo contradiz o primeiro.
- c) ambos são verdadeiros e o primeiro contradiz o segundo.
- d) ambos são verdadeiros e o segundo complementa o primeiro.
- e) o segundo é parcialmente verdadeiro.

A pesquisa histórica (...) demonstra que o subdesenvolvimento contemporâneo é em grande parte produto histórico das relações econômicas e de outra natureza, passadas e presentes, entre os satélites subdesenvolvidos e os países metropolitanos atualmente desenvolvidos. Mais ainda, essas relações constituem uma parte essencial da estrutura e desenvolvimento do sistema capitalista como um todo numa escala mundial.

GUNDER FRANK, Andrew. "Desenvolvimento do subdesenvolvimento latino-americano". In: Pereira, Luiz (org.). *Urbanização e subdesenvolvimento*. Rio de Janeiro. Zahar, 1973. p. 25-6.



Com auxílio do planisfério acima (Melhem Adas, "Panorama Geográfico do Brasil"), pode-se afirmar o seguinte:

- I – Se no ponto 1 anoiteceu, no ponto 4 já é o dia seguinte.
- II – As coordenadas do ponto 2 são Latitude 40° N e Longitude 100° E.
- III – Os pontos 4 e 6 estão no mesmo meridiano.
- IV – Os pontos 5 e 6 estão no mesmo fuso horário.

Estão corretas somente as proposições

- a) II e IV
- b) I e III
- c) III e IV
- d) I e II
- e) I e IV

29. *“Nas regiões de agricultura mais avançada do país o que estamos vendo é uma modificação na composição e no uso da mão-de-obra sem significar uma melhoria das condições de vida. (...) os salários rurais até se elevaram...”* GRAZIANO NETO, F. *Questão Agrária e Ecologia*. S. Paulo. Brasiliense, 1982, p. 75.

Complementando-se o texto acima, pode-se afirmar que, do ponto de vista dos trabalhadores, a elevação desses salários trouxe como resultado:

I – A perda do direito à moradia.

II – A utilização cíclica do trabalho.

III – A perda de outras vantagens pecuniárias.

IV – Maior independência econômica.

Está(ão) correta(s) somente a(s) complementação(ões)

a) I, II e III

b) IV

c) II e IV

d) III

e) I

30. Uma área é superpovoada quando a população ultrapassa um limite a partir do qual começa a baixar o nível médio de vida.

De acordo com o conceito acima e com base nos dados de densidade demográfica (habitantes/km²) dos seguintes países: EUA (25), Índia (232), Países Baixos (421), Japão (323) e Brasil (16), pode-se afirmar:

I – Há uma relação direta entre densidade demográfica e superpopulação.

II – O padrão de vida da população depende da tecnologia de aproveitamento dos recursos e não da densidade demográfica.

III – Todo país com elevada densidade demográfica é subdesenvolvido.

IV – Os países desenvolvidos possuem densidades demográficas médias.

Está(ão) correta(s) somente a(s) proposição(ões)

a) III e IV

b) I

c) I e III

d) IV

e) II

C – ORGANIZAÇÃO SOCIAL E POLÍTICA DO BRASIL

31 No Brasil, a expansão do capitalismo no campo tem-se dado através de transformações sócio-econômicas: mudanças nas relações de trabalho, na estrutura agrária, na produção agrícola, etc.

Em decorrência dessas transformações, pode-se afirmar que:

- I – A perda da propriedade ou posse da terra têm deixado grande parcela da população rural dependente apenas da venda da força de trabalho para sua sobrevivência.
- II – O inchamento das cidades é uma decorrência do êxodo rural.
- III – A mão-de-obra expulsa do campo contribui para a formação de um exército industrial de reserva, cuja função básica é a de aumentar o preço da força de trabalho.
- IV – O aumento da violência no campo – assassinato de posseiros, de líderes sindicais, de representantes de movimentos populares e de setores da Igreja – tem como motivo a luta pela terra.

São verdadeiras, somente, as afirmativas

- a) I e III b) II e III c) III e IV d) I, II e IV e) II, III e IV

32. *“O olho esbugalhado, fixo e fecundo
Cotidiano no seu modo de olhar
Chorando a cores todas as dores do mundo
Olho por olho que se liga sem ligar
O coração bate num ritmo profundo
Os pés na terra e a solidão no ar
‘Atenção para o toque de oito segundos’
Mas valeria a pena acreditar.”*
(Jorge Portugal, Raimundo Sodré, Roberto Mendes – “Realismo Fantástico”).

A letra da música acima faz referência às redes de televisão comerciais do país. Sobre esse meio de comunicação é FALSO afirmar-se que ele

- a) contribui de forma fundamental para a padronização de costumes, gostos, valores e formação de opinião.
- b) faz a ligação entre a indústria e o mercado nacional, através da publicidade.
- c) tem o objetivo básico de educar, difundir a cidadania e desenvolver uma mentalidade crítica nos telespectadores.
- d) tem o poder de manipular a opinião pública, chegando a influenciar as decisões políticas, como na última campanha presidencial.
- e) é um dos meios pelo qual as idéias de determinadas camadas da sociedade tornam-se gerais.

33. *“Ando com minha cabeça já pelas tabelas
Claro que ninguém se toca com minha aflição
Quando vi todo mundo na rua de blusa amarela
Eu achei que era ela puxando um cordão...”*

Chico Buarque, no poema “Pelos Tabelas”, mistura a angústia pessoal de um personagem com um movimento político de grande repercussão nacional, que marcou o fim do regime militar no Brasil. Esse acontecimento foi denominado

- a) Movimento Abolicionista Nacional.
 - b) Movimento pelas Diretas-Já.
 - c) Movimento pela anistia ampla, geral e irrestrita.
 - d) Movimento Pró-Parlamentarismo.
 - e) Movimento Republicano.
34. Na novela “O Dono do Mundo”, Thaís deixa de ser empregada doméstica e pequena comerciante, para tornar-se, através do casamento, uma dama da alta sociedade.

Com base no exemplo desta novela, depreende-se que

- a) as novelas reproduzem a realidade brasileira, onde há uma grande mobilidade social, e os indivíduos das classes trabalhadoras podem facilmente fazer parte da burguesia.
 - b) as novelas mostram, de forma objetiva, as relações servis de produção, decorrentes do desenvolvimento do modo de produção feudal no país.
 - c) a hierarquia social no Brasil é rígida, e as novelas procuram transformar as grandes barreiras que impedem as mudanças sociais nas fantasias de ascensão individual.
 - d) os indivíduos de todas as classes sociais têm os mesmos direitos e oportunidades, fato que, definitivamente, as novelas não mostram.
 - e) as novelas refletem a realidade brasileira, onde as classes antagônicas mantêm relações de cooperação, amizade e paixão.
35. O Banco Mundial e o IBGE apresentam os seguintes dados:

O Brasil detém o terceiro lugar entre os países de pior distribuição de renda. De acordo com as estatísticas, 90% da população brasileira ficou mais pobre no período de 1981 a 1989. No começo da década passada, essa parcela da população detinha 53,4% da renda nacional, tendo esse percentual caído para 46,5% no final da mesma década.

(“ISTO É, SENHOR” - 20/3/91)

Por estes dados, pode-se deduzir que

- a) durante a última década, o aumento da concentração de renda no país repercutiu no agravamento de seus problemas sociais.
- b) a concentração de renda significa que uma maior parcela da população aumentou sua participação na riqueza do país.
- c) a concentração de renda contribui para a diminuição das desigualdades sociais.
- d) o país está entrando no Primeiro Mundo.
- e) a concentração de renda no país não repercutiu nos seus problemas sociais e políticos, uma vez que as esferas econômicas, políticas e sociais são independentes entre si.

36. O atual modelo de desenvolvimento do Brasil pode ser caracterizado como: capitalista, dependente, exportador, concentrador e excludente.

Considerando-se as afirmativas abaixo, sobre esse modelo,

- I – O capital predomina sobre o trabalho, os meios de produção são privatizados e o lucro é o centro da produção social.
- II – No contexto da economia mundial, o Brasil é colocado como objeto de uso dos países do centro com a perda de seu poder decisório no campo político e econômico.
- III – A produção de bens primários e de matéria-prima para o mercado externo tem sido prioritária.
- IV – A maior parte da população está excluída do direito à saúde, educação, moradia, saneamento, transportes, etc., ou só precariamente tem acesso a tais direitos.

São VERDADEIRAS

- a) apenas I e II b) apenas II e III c) apenas III e IV d) apenas II e IV e) todas

37. *“Em agosto de 1985 foi criada, em São Paulo, a primeira DELEGACIA DE DEFESA DA MULHER, na América Latina. Dessa forma, as mulheres que forem vítimas de espancamento, violências sexuais ou de qualquer outro tipo, poderão registrar queixa, sem passarem pelo constrangimento de relatar os fatos ocorridos aos homens que trabalham nas delegacias de polícia.”* (Frei Betto. **OSPB: Introdução à Política Brasileira**. 13. ed. São Paulo, Ática, 1990. p. 97)

Considerando-se a informação acima, pode-se concluir que:

- I – As mulheres não precisam de proteção especial, pois a Constituição já lhes fornece a cobertura jurídica necessária.
- II – A discriminação e agressão contra as mulheres evidenciam os problemas de competição da mão-de-obra, num mercado de trabalho escasso e exigente.
- III – As agressões contra a mulher são práticas oriundas da mentalidade patriarcal, típica da realidade latino-americana.
- IV – As mulheres brasileiras ainda não têm capacidade para conquistarem seus direitos.

São VERDADEIRAS, apenas, as afirmativas

- a) I, II e III b) I e III c) II e III d) I e IV e) III e IV

38. Com relação ao processo eleitoral, a Constituição brasileira de 1988 determina que
- as eleições para prefeito serão realizadas em dois turnos, nas cidades com mais de 50 mil habitantes.
 - todos os partidos que apresentarem candidatos terão tempo igual nas propagandas eleitorais, no rádio e TV.
 - as eleições para prefeito serão realizadas em dois turnos, nas cidades com mais de 200 mil habitantes.
 - as pessoas com idade entre 16 e 18 anos incompletos são obrigadas a votar.
 - o exercício do voto é obrigatório para analfabetos, pessoas com mais de 70 anos e estrangeiros radicados no Brasil.

39. *“Segundo a obra Quem foi Quem na Constituinte, organizada pelo Departamento Intersindical de Assessoria Parlamentar (DIAP), dos 573 parlamentares, apenas 66 receberam nota 10; esta nota foi conferida àqueles que votaram favoravelmente às questões trabalhistas fundamentais (estabilidade no emprego, jornada semanal de 40 horas, salário-mínimo real, salário adicional de férias, direito de greve, formação de comissões de fábrica, etc.).” (TRABALHADORES - Eleições - Campinas. Fundo de Assistência à Cultura, 1990).*

Analisando-se esse fato da política brasileira, pode-se afirmar:

- A maioria dos deputados e senadores constituintes era formada de trabalhadores ou de seus representantes.
- A maioria da população brasileira, embora seja formada de trabalhadores, continua elegendo representantes das classes dominantes.
- Os parlamentares das classes dominantes utilizam-se do seu poder econômico e maior acesso aos meios de comunicação para se manterem no Congresso.
- Os trabalhadores têm os mesmos interesses dos grandes empresários e latifundiários, votando, por isso, em candidatos comuns.

São VERDADEIRAS, apenas, as afirmativas

- a) I e II b) II e III c) III e IV d) I e IV e) I e III

40. De acordo com o art. 205, da Constituição brasileira de 1988, “a educação é direito de todos e dever do Estado e da família.”

Refletindo-se sobre o dispositivo acima, ante a realidade educacional brasileira, pode-se observar que:

- I – A educação não é vista nem tratada pelo Poder Público como importante fator do desenvolvimento nacional.
- II – O Estado oferece o ensino fundamental a todos os brasileiros, inclusive, para os que a ele não tiveram acesso na idade própria.
- III – O Estado vem assistindo a todas as crianças de 0 a 06 anos, em creches e pré-escola.
- IV – O número de estabelecimentos oficiais de ensino é insuficiente para atender a demanda da população em idade escolar.

É(são) verdadeira(s) somente a(s) afirmativa(s)

a) III e IV

b) II e III

c) I

d) I e IV

e) II

⊗

⊗

⊗

⊗

⊗