

COPERVE

COMISSÃO PERMANENTE DO CONCURSO
VESTIBULAR

CONCURSO VESTIBULAR
UNIFICADO

85

ESTUDOS SOCIAIS

--	--	--	--	--	--	--

INSCRIÇÃO

ASSINATURA DO CANDIDATO

UNIVERSIDADE FEDERAL DA PARAÍBA
UNIVERSIDADE REGIONAL DO NORDESTE
INSTITUTOS PARAIBANOS DE EDUCAÇÃO

ESTUDOS SOCIAIS

Número de questões: 55

Duração: 3h30min.

A T E N Ç A O!

- Cada questão contém 5(cinco) alternativas para resposta, onde apenas uma é correta.

HISTÓRIA GERAL E DO BRASIL

01 Interpretando o trecho do poema de Brecht, quanto ao papel do homem na História, pode-se dizer que esta ciência, atualmente, é entendida como um

a) conjunto de incertezas e indagações sem respostas.

b) relato das narrativas e feitos heróicos dos governantes.

c) somatório das lendas, mitos e fatos sociais.

d) contexto evidenciado pelas personagens célebres.

e) processo resultante da ação coletiva.

“Quem construiu a Tebas das sete portas?

Nos livros constam os nomes dos reis.

Os reis arrastaram os blocos de pedra?

E a Babilônia tantas vezes destruída

Quem a ergueu outras tantas?

.....

A grande Roma está cheia de arcos de triunfo.

Quem os levantou?

Sobre quem triunfaram os césores?

A decantada Bizâncio só tinha pelácios

Para seus habitantes?

.....

O jovem Alexandre conquistou a Índia.

Ele sozinho?

César bateu os gauleses.

Não tinha pelo menos um cozinheiro consigo?

Felipe da Espanha chorou quando sua armada naufragou

Ninguém mais chorou?

.....

Tantos relatos

Tantas perguntas.”

— FONTE: Bertold Brecht, apud ALENCAR, Francisco et al. **História da Sociedade Brasileira**. Rio, Ao Livro Técnico, 1980, p.v.

02 A carnificina e o terror têm assolado a Índia, incluindo o próprio assassinato da primeira ministra Indira Gandhi. Tais violências estão diretamente relacionadas com a seita Sikh, que

a) aspira o término do colonialismo britânico.

b) pratica o princípio da não-violência inspirado em Mohandas Gandhi.

c) protesta contra a formação do Estado de Bengladesh.

d) luta pela autonomia política do Punjab.

e) repudia a influência soviética no país.

03 No organograma político ao lado, os quadros vazios de números II, V, VII e XII são preenchidos de forma correta, respectivamente, com

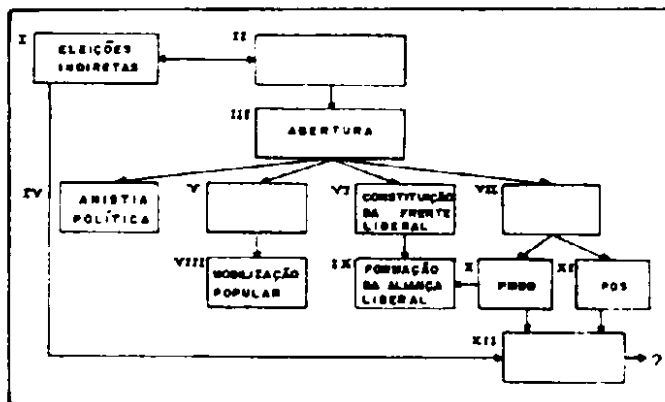
a) Revolução de 1930/Tenentismo/Expurgo Partidário/Estado Novo.

b) Golpe de 1937/suicídio de G. Vargas/Governo de JK/Eleições Diretas.

c) Governo de JK/Renúncia de Jânio/Sistema Parlamentar/Governo de João Goulart.

d) Golpe de 1964/Campanha pelas Diretas/Convenções Partidárias/Colégio Eleitoral.

e) Parlamentarismo/Revolução de 31 de março/Governo de João B. de Figueiredo/Eleições Diretas.



04

— Pergunta: Que tipo de pressão você sentiu?
 — Resposta: [...] eu o coloquei na censura [...] Mas eles negaram [...] Ai eu percebi que se tratava de um caso político. Chamei a imprensa [...] mostrei o filme e eles [...] deram ampla difusão ao caso [...]. O Ministro Abi Acker liberou pessoalmente, passando por cima da própria censura [...]
 — Pergunta: Como foi o contato com Muricy antes e depois do filme?
 — Resposta: [...] estive com ele várias vezes [...] ele faz uma crítica [...] dizendo que eu era esquerdista, pró-comunista, aquelas coisas todas.
 — Pergunta: Teve algum envolvimento com a televisão [...].
 — Resposta: O programador de cinema da Globo é meu amigo. Eu perguntei a ele, [...] se ele poderia programar. Ele disse que nem às 4 horas da manhã.
 — Pergunta: Você teve alguma preocupação em trazer para essa juventude de agora uma mensagem [...].
 — Resposta: Não acredito que exista passado sem presente [...] quando fiz o filme Jango, tive a preocupação de extrair lições [...].”

FONTE: JANGO: O Resgate da História de um Homem e de Uma Época. Texto mimeografado pelo Comando de Greve dos Docentes da UFPb, resultante do debate com Sílvio Tandler, no cine Banguê, em 18/06/84.

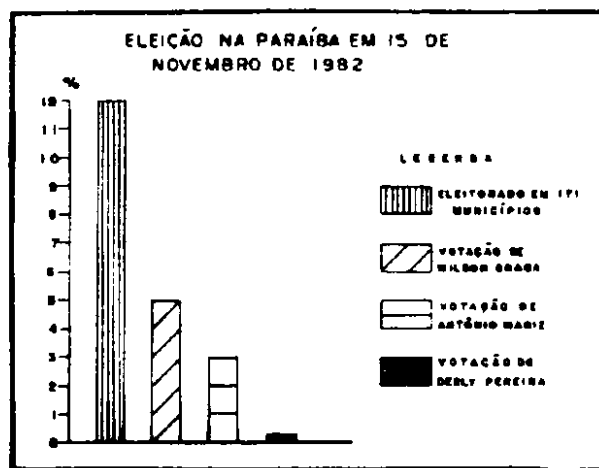
— Pelo teor da entrevista acima, percebe-se que fazer seriamente arte cinematográfica no país, envolvendo fatos recentes da nossa história, constitui uma

a) tarefa inviável face aos rígidos padrões dos costumes e da moral brasileira.
 b) tentativa inútil para tornar público qualquer documentário comprometedor.
 c) cômoda realização devido à mentalidade liberalizante dos órgãos competentes.
 d) aventura artística só viabilizada pelos que estão comprometidos com o sistema.

e) verdadeira luta contra os interesses da classe dominante do país.

05. Pela análise do gráfico ao lado, relativo às últimas eleições para o governo do Estado, pode-se deduzir que o

- PDS obteve uma vantagem de votos sobre o PMDB, superior a toda votação deste partido.
- PT mereceu a mais expressiva votação, entre os partidos oposicionistas.
- PMDB conseguiu um índice de votação inferior ao alcançado pelo PT.
- pleito eleitoral teria resultado adverso, caso as oposições unidas pudessem somar seus votos.
- candidato do PDS vitorioso não conseguiu a metade dos votos do eleitorado do Estado.



FONTE: Gráfico elaborado a partir dos dados contidos in MELLO, José Octávio de A. Hegemonia do Estado e Colapso da Sociedade nas Eleições Paraibanas de 1982. Originais do autor, datilografado, p.6.

06. Os versos de João Cabral de Mello Neto, musicados por Chico Buarque de Hollanda criticam, ironicamente, o(a)
- auxílio funeral previdenciário do trabalhador rural.
 - salário do camponês baseado na medição da terra cultivada.
 - estrutura fundiária persistente no país.
 - repressão militar ao movimento das Ligas Camponesas.
 - alta taxa de mortalidade dos camponeses brasileiros.

*“Esta cova em que estás
Com palmos medidos
É a conta menor
Que tiraste em vida
É de bom tamanho
Nem largo nem fundo
É a parte que te cabe
deste latifúndio
Não é cova grande
É cova medida
É a terra que queras
ver dividida
.....
É uma cova grande
Para tua carne pouca
Mas a terra dada
Não se abre a boca.”*

07. Proposição n.º 1
- “Carlos Lacerda, que havia sido eleito governador da Guanabara, passou a usar todos os meios de comunicação aos quais o seu cargo lhe dava acesso (rádio, televisão, jornais) para desfechar violentos ataques à presidência da república [ocupada por Jânio Quadros, sobretudo]. . .*

PORQUE

- Proposição n.º 2
- [concedeu] . . . a condecoração da Ordem do Cruzeiro do Sul (a maior comenda brasileira) a ‘Che’ Guevara, um dos mais importantes participantes da revolução que transformara Cuba em uma nação socialista (1959 - 1960) e que na ocasião era ministro da Economia de Cuba.”*

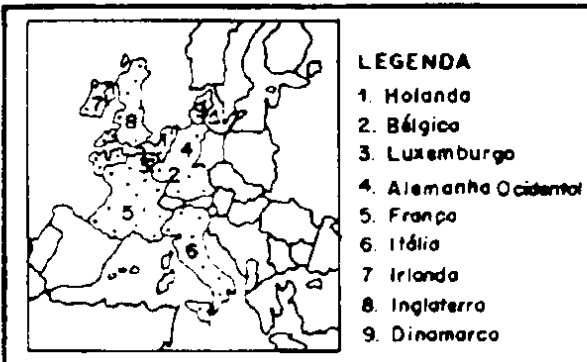
FONTE: adaptação de texto contido in NADAI, Elza e NEVES, Joana. História do Brasil: da Colônia à República. São Paulo, Saraiva, 1980, p. 235.

– Sobre as proposições, pode-se afirmar que

- a) ambas são verdadeiras, e a segunda é uma justificativa correta da primeira.
- b) ambas são verdadeiras, e a segunda não é uma justificativa correta da primeira.
- c) a primeira é verdadeira e a segunda, incorreta.
- d) a primeira é incorreta e a segunda, verdadeira.
- e) ambas são incorretas.

08 No mapa ao lado, identifica-se o bloco econômico supranacional que entre outros objetivos, visa ao fortalecimento do capitalismo europeu. Tais países integram o(a)

- a) COMECON (Conselho de Assistência Mútua).
- b) MCE (Mercado Comum Europeu).
- c) CEEA (Comunidade Européia de Energia Atômica).
- d) OPEP (Organização dos Países Exportadores de Petróleo).
- e) OTAN (Organização do Tratado do Atlântico Norte).



- LEGENDA
- 1. Holanda
 - 2. Bélgica
 - 3. Luxemburgo
 - 4. Alemanha Ocidental
 - 5. França
 - 6. Itália
 - 7. Irlanda
 - 8. Inglaterra
 - 9. Dinamarca

FONTE: adaptado de AQUINO, R. S. Leão de, et al. História das Sociedades : das Sociedades Modernas às Sociedades Atuais. Rio, Ao Livro Técnico, 1980, p.329.

09



FONTE: Gênios da Pintura. S. Paulo, Abril Cultural, Fasc. n.º 37, p. 1011.

– Nas primeiras décadas do século XX, a pintura através do cubismo, repudiou a concepção de arte como mera beleza, a exemplo do painel acima reproduzido. Sobre este painel, é correto afirmar que se trata da obra

- a) "A Abertura do Quinto Selo", criação de El Greco, tendo por inspiração as descrições apocalípticas, segundo o evangelista S. João.
- b) "Batalha do Avaí", pintura do paraibano Pedro Américo de Figueiredo e Melo, tendo por motivação cenas inspiradas na guerra do Paraguai.
- c) "Retirantes", óleo de Cândido Portinari, onde o pintor estiliza a tragédia dos nordestinos açoitados pelas secas.
- d) "Construção: premonição da Guerra Civil", quadro de Salvador Dalí, extra-vasando imagens de sonhos indecifráveis.
- e) "Guernica", obra protesto de Pablo Picasso contra o bombardeio alemão dessa cidade, durante a guerra Civil Espanhola.

10

<p>Texto n.º 1:</p> <p>"Na zona seca do Nordeste [colonial] a dificuldade principal era a água. Encontrada a água o problema estava resolvido. Por isso alguns sesmeiros preferem dizer a ter descoberto terras que descobriram água [...] . As datas de terras são sempre concedidas no vale dos rios ou riachos, ou tendo como ponto central um poço, lagoa ou olho d'água e mesmo um simples 'olhinho d'água'".</p>	<p>Texto n.º 2:</p> <p>"Os períodos de estiagens prolongados têm se apresentado como propícios à eclosão de movimentos sociais das classes dominadas. Contudo, antes que aconteçam, as classes dominantes locais conseguem verbas, iniciam obras e assim dispersam a população e lhes transmite a idéia de que o governo está ao lado dos flagelados. Mas hoje, como na República Velha, as verbas são aplicadas em sua parte mínima e as obras beneficiam a elite proprietária de terras ou não têm proveito nem continuidade."</p>
<p>FONTE: COSTA E SILVA, Genny da. <i>Sesmeiros da Paraíba</i>. J.Pessoa, Universitária, 1965. Introdução de J. A. Gonsalves de Mello, p.3.</p>	<p>FONTE: FERREIRA, Lúcia de Fátima G. "Indústria da Sêca na Paraíba" in <i>José Américo e a Cultura Regional</i>. J.Pessoa, FCJA, 1983, p. 78.</p>

— Das conclusões abaixo, qual a que NÃO sintetiza idéias contidas nos textos?

- a) Indistintamente da época, a seca se caracteriza como uma determinante fundamental do processo histórico regional do Nordeste.
- b) Praticamente, os sesmeiros legaram aos latifundiários atuais a monopolização dos cursos e olhos d'água do interior nordestino.
- c) Efetivamente, a estrutura de poder, através dos tempos, sempre privilegiou o segmento social proprietário de terras.
- d) Inegavelmente, a estrutura fundiária atual tem as suas origens mais remotas, no sistema de sesmarias coloniais.
- e) Eficazmente, as autoridades competentes persistem, ativando soluções urgentes para pôr fim ao drama dos flagelados da seca.

A música brasileira também registrou momentos de profundas crises econômicas, a exemplo da que ocorreu na década de 1920. Os que primeiramente se dedicaram à canção popular, exaltavam nas composições a Firmou-se, no, uma imagem invertida do trabalho, face aos baixos salários e ao desemprego.

– As lacunas do texto acima são preenchidas, respectivamente, por

- a) índios e mamelucos / miséria / carimbó,
- b) negros e mulatos / malandragem / samba.
- c) sertanejos e retirantes / seca / baião.
- d) mineiros e baianos / boemia / bolero.
- e) pernambucanos e cariocas / recessão / frevo.

12 POPULAÇÃO DO RIO DE JANEIRO E DAS CAPITAIS NORDESTINAS
(1872 - 1920)

	1872	1890	1900	1920
Rio de Janeiro	274.972	522.651	811.443	1.157.873
Salvador	129.109	174.412	205.813	283.422
Recife	116.671	111.556	113.100	238.843
Fortaleza	42.458	40.902	48.369	78.536
São Luís	31.604	29.308	36.798	52.929
Maceió	27.703	31.498	36.427	74.166
Parayba (João Pessoa)	24.714	18.645	28.793	52.990
Teresina	21.692	31.523	45.316	57.500
Natal	20.392	13.725	16.056	30.696
Aracaju	9.559	16.336	21.132	37.440

FONTE: MOTA JUCÁ, Gisafran Nazareno. "O Crescimento do Recife e os Entraves à Urbanização," in *Revista de Ciências Humanas*, Ano 2, n.º 4. João Pessoa, Universitária, 1980, p. 156.

– Com base no quadro acima, pode-se comprovar a

- a) posição da capital de Pernambuco como primeiro centro urbano do Nordeste, até mesmo durante a transição do Império à República.
- b) superioridade numérica da população de Salvador e Aracaju sobre a do Rio de Janeiro, em 1920, face à expansão da economia cacaueteira.
- c) sistemática equivalência do número de habitantes da capital de Alagoas, exportadora de fumo, com os da capital do Piauí, exportadora de couros.
- d) diminuição do contingente populacional de várias capitais do Nordeste, dois anos após a decretação da Lei Áurea, assinada pela princesa Isabel.
- e) primazia do Recife, Salvador e Fortaleza sobre a população do Rio de Janeiro, motivada pelo processo de industrialização no Nordeste republicano.

“Na região canavieira, o trabalho escravo se desagregava: em 1855 [...]”

Na região cafeeira, reforçava-se a escravidão, conforme imposição da própria racionalidade econômica...”

- FONTE: SILVEIRA, Rosa Maria Godoy. O Regionalismo Nordeste. São Paulo, Moderna, 1984, p. 198.

– Aplicando a atual divisão regional do Brasil ao texto acima, deduz-se que a autora alude às bases sócio-econômicas da fase imperial, fazendo um paralelo entre o


- a) Norte e o Sul.
 b) Centro-Oeste e o Nordeste.
 c) Sudeste e o Norte.
 d) Nordeste e o Sudeste.
 e) Sul e o Nordeste.

14 Ao interpretar a ilustração ao lado, percebe-se o seu relacionamento com o contexto histórico alusivo ao processo de

- I – dominação ibérica no Novo Mundo, quando da ascensão da dinastia Filipina.
 II – descolonização da América espanhola, no século dezenove.
 III – subordinação da Espanha e suas Colônias americanas, ao imperialismo da França napoleônica.

– Está(ão) correta(s) somente a(s) alternativa(s)

- a) I
 b) II
 c) III
 d) I e II
 e) II e III



FONTE: AQUINO, R.S. Leão de, et al. História das Sociedades: das Sociedades Modernas às Sociedades Atuais. Rio, Ao Livro Técnico, 1980, p. 173

15

“Por essa época, a Rainha já estava, de tal modo convencida dos inconvenientes da subordinação, que expediu a Carta Régia de 17 de janeiro de 1799, desanexando a capitania da Paraíba e, ao mesmo tempo, a do Ceará...”

FONTE: OLIVEIRA, Elza Régis de. “A Paraíba na Crise do Século XVIII”; in Educação e Cultura. João Pessoa, SEC, 1983. Ano III, n.º 10, p. 47.

– A partir do texto pode-se deduzir que D. Maria I, através de ordem expressa, concedeu autonomia às capitanias aludidas, libertando-as oficialmente da sujeição à (ao)


- a) Capitania de Pernambuco.
- b) Estado do Grão Pará e Maranhão.
- c) Governo Geral do Brasil, sediado no Rio de Janeiro.
- d) Companhia de Comércio de Pernambuco e Paraíba.
- e) Conselho Ultramarino, de Lisboa.

16



Este é o símbolo do IV Centenário da Paraíba, que se comemora este ano. Isto significa dizer que, em 1585, ocorreu a

- a) efetivação da conquista territorial dos “sertões” paraibanos.
- b) fundação da cidade de Nossa Senhora das Neves.
- c) criação, por decreto régio, da Capitania Real da Paraíba.
- d) libertação da Capitania Real do domínio espanhol.
- e) designação de Fructuoso Barbosa como primeiro donatário.

17 No ano passado, comemorou-se o Centenário de nascimento do poeta do  Augusto dos Anjos.

Nas estrotes do poema “Os Doentes” ao lado, ele critica com veemência o(a)

- a) atraso dos indígenas, se comparando à cultura européia do século XV, quando da descoberta do continente americano.
- b) pacífica interação social entre europeus e mestiços, no Novo Mundo, o que contribuiu para perpetuar o legado cultural indígena.

A civilização entrou na taba
Em que ele estava. O gênio de Colombo
Manchou de opróbios a alma do mazombo,
Cuspiu na cova do morubixaba !

E o índio, por fim, adstrito à étnica escória,
Recebeu, tendo o horror no rosto impresso,
Esse achincalhamento do progresso
Que o anulava na crítica da História !

.....
E sentia-se pior que um vagabundo
Microcéfalo vil que a espécie encerra
Desterrado na sua própria terra,
Diminuído na crônica do mundo !

FONTE: **EU**, 31. ed. Rio, S. José, 1971,
p. 101.

- c) guerra de conquista no solo americano, quando da descoberta de Colombo, que culminou com a violenta dominação espanhola.
- d) choque de civilizações na América, que obrigou o Índio a ceder ao branco a sua terra, a sua liberdade e a sua própria dignidade.
- e) domínio indígena da América, antes dos descobrimentos, e o rápido processo de aculturação dos europeus no continente.

- 18 Com o movimento reformista, verificou-se a tendência de algumas classes e/ou segmentos sociais adotarem, majoritariamente, determinados grupos evangélicos. Isto pode ser comprovado, quando se considera que ao
- catolicismo romano vincularam-se os camponeses e ao catolicismo ortodoxo, os grandes proprietários de terras.
 - anglicanismo converteram-se os cavaleiros e ao presbiterianismo, os servos.
 - c)** luteranismo aderiram os integrantes da pequena nobreza e ao calvinismo, os negociantes.
 - espiritismo filiaram-se os representantes da alta nobreza e ao arianismo, a burguesia comercial.
 - puritanismo integraram-se os libertos e à seita pentecostal, os escravos.

- 19 Aplicando a concepção ao lado à estrutura global da Idade Média, identifica-se que a estrutura dominante foi a estrutura regional

- econômica, representada pelo trabalho escravo.
- jurídico-política, simbolizada pelo Estado monárquico absolutista.
- c)** ideológica, caracterizada pelo poder da igreja católica.
- jurídico-política, estabelecida pelo "Corpus juris civilis".
- econômica-ideológica, marcada pelo comércio marítimo.

"Todo MODO DE PRODUÇÃO se acha constituído por:

- 1) Uma ESTRUTURA GLOBAL, formada por três estruturas regionais:

estrutura econômica

estrutura jurídico-política (leis, Estado, etc.)

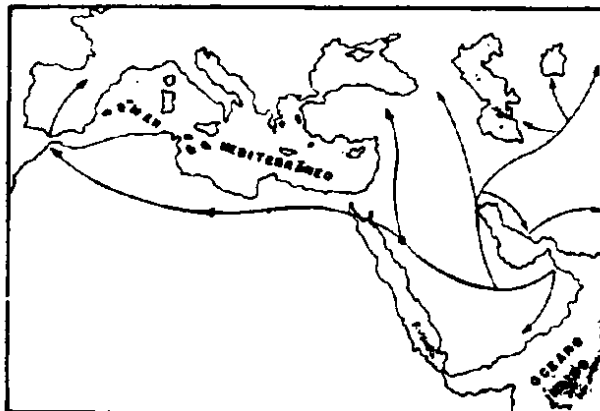
estrutura ideológica (idéias, costumes, etc.)

- 2) Nesta estrutura global, uma das estruturas regionais DOMINA as outras."

FONTE: HARNECKER, Marta. Os Conceitos Elementares do Materialismo Histórico. S. Paulo, Global, 1981, p. 136.

- 20 As setas do mapa ao lado, relativo aos tempos medievais, indicam a

- interpenetração dos bárbaros nos domínios romanos.
- propagação do Cristianismo no mundo Ocidental.
- c)** expansão e conquista da civilização árabe.
- jornada da primeira grande Cruzada, no Oriente.
- rota comercial das especiarias cobiçadas na Europa.



FONTE: adaptado de A. ARRUDA, J. Jobson, História Antiga e Medieval. S. Paulo, Ática, 1976, p. 309.


- 21 Em 1984, em Los Angeles, 7.800 atletas, de 141 países, exibiram-se nos XXIII Jogos Olímpicos da era moderna. Todavia, sobre as origens gregas do certame, no século VII a.C., pode-se afirmar que as
- I – maratonas de ginásticas ocorriam na cidade de Olímpia, localizada no Peloponeso.
 - II – disputas eram periódicas, com intervalos regulares de quatro anos.
 - III – competições eram abertas à participação de crianças, mulheres e escravos.
 - IV – práticas ginásticas já estavam associadas ao patriotismo, ao gosto estético e à construção da personalidade.
 - V – provas envolviam atletas do mundo grego e os procedentes das civilizações do Oriente Próximo e Extremo Oriente.

– Estão corretas somente as afirmativas

- a) I e V b) II e III **(c) I, II e IV** d) II, III e V e) III, IV e V

- 22 O filme "O Dia Seguinte" procurou alertar as grandes potências mundiais, para os efeitos de uma guerra nuclear. No entanto, durante a Antiguidade e o Medievo, a arma pesada representada ao lado, cuja invenção é atribuída aos assírios, constituía-se na mais terrível ameaça. Trata-se do(da)

- (a) ariete**, madeiro com extremidade revestida de metal e manobrado manualmente.
- b) balista, máquina destinada ao lançamento de pedras ou pelouros de metais.
- c) sarissa, longa lança de seis metros de comprimento que, utilizada por um corpo de tropas, formava uma falange.
- d) torre de assédio, geralmente combinada com escadas dobráveis destinadas a escalar muralhas.
- e) catapulta, máquina com a qual se arremessavam dardos e/ou flechas incendiárias.



FONTE: SILVA, J. e PENNA, J. B. D. História Geral, 3. ed. São Paulo, Nacional, 1969, p. 112.

23

O S P B

No Brasil, as classes sociais estão representadas no(s) partido(s)

- a) PT.
- (b) PT, PMDB, PTB, PDT e PDS.**
- c) PT e PTB.
- d) PT, PTB e PDT.
- e) PMDB e PDS.

- 24 Apesar de excluído o povo do processo de escolha do Presidente da República, os comícios políticos têm demonstrado o interesse daquele pelas "demonstrações" que antecedem a votação do Colégio Eleitoral. Isto é sintoma de que
- I — o povo ainda espera escolher o Presidente da República para 1985.
 - II — os comícios "pelas diretas" se constituíram num processo de aprendizado político.
 - III — há uma vontade generalizada de influir e pesar na política econômica e social do país.
 - IV — o povo tem participação consciente na constituição do Colégio Eleitoral.
- Está(ão) correta(s) somente a(s) afirmativa(s)

a) I e IV b) I e III c) I **d) II e III** e) IV

- 25 *"O Fundo é o xerife dos banqueiros, mas o abandono desse programa infernal é o primeiro passo para sairmos do impasse atual. Não estamos financiando a agricultura como deveríamos porque vamos expandir demais a base monetária, não estamos financiando produção para exportação porque isso também contribui para expandir a base. Estamos restringindo violentamente os salários, e quase parando a indústria, pelo mesmo motivo. O Sistema Financeiro de Habitação está falindo, a Previdência Social se esvaziando. . . Tudo isso para atender ao Fundo Monetário. O confronto é inevitável." (Dércio Munhoz, Revista Senhor n.º 172,04/07/84)*

Constatados esses problemas, a adoção, ou rejeição da atual política econômico-financeira do F.M.I. no Brasil, é um problema sobretudo de

- I — decisão política.
- II — competência técnica.
- III — direito internacional.
- IV — conjuntura econômica favorável.

Está(ão) correta(s) somente a(s) afirmativa(s)

a) I b) II c) III d) II e III e) III e IV

- 26 *"Até 1930, os únicos encargos trabalhistas existentes eram a contribuição para os Institutos de Aposentadoria e Pensões, o seguro contra riscos de acidentes de trabalho, as indenizações por despedida injusta e o aviso prévio. Apesar dessas conquistas, a classe trabalhadora, por sua vez, não tinha condições plenamente satisfatórias para pressionar os setores governamentais, levando-os a aprovar a estrutura completa de uma legislação social (a sistematização dos seus princípios só vai se intensificar depois de 1930). Apesar disso no período em que inexistia uma legislação trabalhista sistemática, o operariado, de certa forma, lutou para que se modificassem as condições que lhe eram impostas pelo sistema produtivo em formação." (Vera L.B. Ferrante — FGTS: ideologia e repressão)*

Conforme o texto, a existência de uma legislação trabalhista no Brasil é fruto de um processo que indica a(o)

- a) luta histórica de interesse de classe.
- b) alta formação jurídica dos legisladores.
- c) boa vontade dos governos.
- d) espírito de cooperação entre o capital e o trabalho.
- e) participação eficiente dos sindicatos na elaboração dessa legislação.

27 *“Depredação da natureza”*

Brasília — Ao constatar, ontem, que continuam se verificando atos de agressão ao meio ambiente no Brasil e em todo o mundo, o Senador Gastão Müller (PMDB — MT) advertiu que enquanto não se atingir um maior grau de educação, haverá sempre depredadores da natureza.” (O NORTE — 24/10/84)

A declaração do texto se refere a um tema bastante discutido atualmente o qual tem como principal determinante a(o)

- a) inexistência de uma legislação sobre o assunto.
- b) falta de educação individual.
- c) desconhecimento da “Declaração sobre o ambiente humano” (ONU — 1972).
- d) modelo econômico de ocupação do espaço implementado.
- e) pouca divulgação do “Dia do Meio Ambiente”.

28 Conforme a Constituição do Estado da Paraíba, no Capítulo II, Art. 5.º, item II: *“Compete ao Estado, observados os princípios estabelecidos na Constituição da República — prover as necessidades de sua administração.”*

Também de acordo com a Lei Orgânica dos Municípios da Paraíba, no Título II, Art. 22: *“Ao Município compete prover a tudo quanto respeite ao seu peculiar interesse e ao bem-estar de sua população.”*

Entretanto, um Governador do Nordeste afirmou, em recente entrevista:

“O que o Nordeste espera de um governo, seja de oposição ou não, é que seus problemas sejam vistos como prioridade nacional. Nós esperamos a descentralização administrativa, a reforma tributária — atualmente, do Fundo de Assistência Social, recolhido pelo Imposto de Renda, 10,5% são distribuídos para os Estados, 12% para os Municípios e 77,5% vão para a União. Desejamos uma melhor distribuição de renda, seja ela a nível de Estados e Municípios, como a nível social.” (Hugo Napoleão, ISTO É — 17/10/84 — N.º 408)

Analisando estes textos, pode-se concluir que a superação da distância, entre o previsto em Lei e a realidade concreta dos Estados e Municípios, é uma questão de ordem

- a) jurídica.
- b) econômico-administrativa.
- c) moral.
- d) político-partidária.
- e) administrativa.

29

"ISTO É. Na década de 60 teve curso a tese de que a simples diminuição do crescimento demográfico seria capaz de acelerar o desenvolvimento econômico. Qual sua opinião sobre ela?

MIRÓ. Esta tese está em descrédito (...) A economia brasileira, por exemplo, cresceu num momento de expansão demográfica. O mesmo se deu com o México (...). Não há uma relação de causa e efeito entre as duas coisas. O problema real é que o famoso milagre brasileiro apresentou elevadas taxas de crescimento econômico, mas há um número maior de pobres, de marginalizados neste desenvolvimento. Isto não tem nada a ver com a demografia, mas com a vontade política de tomar decisões e adotar diretrizes que beneficiem estes grupos excluídos. Teoricamente, se a população é menor, haverá mais recursos para atender as necessidades desta gente. Mas é fundamental ter a vocação e a honestidade políticas para reconhecer estas necessidades e melhorar a situação de vida da população." (Entrevista de Carmem Miró. ISTO É. n.º 404 - 19/10/84)

De acordo com Miró, pode-se concluir que o(a)

- I — aumento da população causa o aumento da pobreza.
 - II — aumento da pobreza é condicionado, mas não determinado pelo aumento da população.
 - III — aumento da pobreza é proporcional ao aumento da população.
 - IV — diminuição da população provoca o desenvolvimento econômico.
- Está(ão) correta(s) somente a(s) afirmativa(s)

a) I

b) II e III

c) III

 d) II

e) II e IV

30

"Quando dizemos que as grandes transformações que ocorrem no mundo rural são devidas à expansão do capitalismo, não estamos mentindo ou falseando a verdade. Entretanto, estaremos simplificando demais a questão se nos limitarmos a ver meras relações de causa e efeito entre o capital e os problemas que vão surgindo. Desde logo, convém dizer que o capitalismo está em expansão tanto no campo quanto na cidade, pois essa é a sua lei: a lei de reprodução crescente, ampliada. A tendência do capital é a de tomar conta progressivamente de todos os ramos e setores da produção no campo e na cidade, na agricultura e na indústria." (José de Souza Martins — "A sujeição da renda da terra ao capital e o novo sentido da luta pela reforma agrária").

Isto significa que com a expansão do capitalismo ocorre o(a)

- I — aumento da produção e a melhoria das condições de vida dos trabalhadores.
- II — aumento gradativo da massa de assalariados rurais.
- III — cumprimento efetivo da legislação trabalhista no meio rural.
- IV — expropriação crescente de pequenos e médios produtores e suas famílias.

Está(ão) correta(s) somente a(s) afirmativa(s)

a) I

b) III

c) IV

d) I e II

 e) II e IV

"O saudável e econômico hábito de tratar-se com plantas medicinais readquirido nos últimos anos pelos brasileiros, corre o risco de ser interrompido por falta de matéria-prima. Algumas das mais eficazes dessas espécies estão em extinção como resultado de coletas predatórias e descontroladas. (...)

Por exemplo, o pau-rosa serviu durante anos para enriquecer a balança de exportação do Brasil. No final dos anos 60, o país exportou 300 toneladas de óleo de pau-rosa, com o sacrifício de 50 mil toneladas de madeira. De grande valor para a indústria farmacêutica — dele se retira o linalol, ou álcool terapêutico, utilizado em produtos à base de cânfora — o vegetal está praticamente extinto, e o Brasil enfrenta hoje a incômoda situação de importar de laboratórios da Suíça uma síntese do linalol." (ISTO É — n.º 391 — 20/06/84)

Esta situação demonstra que

- I — a defesa da flora medicinal brasileira é uma questão de preservação do patrimônio cultural.
- II — o uso das plantas medicinais pela população tem sido estimulado pelas indústrias farmacêuticas.
- III — o problema da falta de controle das exportações atinge apenas o setor produtivo.
- IV — uma política de preservação do patrimônio cultural não está desvinculada da política econômica global.

Está(ão) correta(s) somente a(s) afirmativa(s)

a) I e II

b) I e III

c) I e IV

d) III

e) IV

32

"Desde a sua constituição, a orientação que inspirou as operações do BNH foi a de transmitir todas as suas funções para a iniciativa privada. O Banco limita-se a arrecadar os recursos financeiros para em seguida transferi-los a uma variedade de agentes privados intermediários.

(...) Assim o BNH tem gerado uma cadeia de negociatas inescrupulosas. (...) a burla se inicia com a utilização de terrenos' imprestáveis, prossegue na construção dos edifícios e se conclui com a venda da casa a quem não pode pagá-la. Os que mais precisam não podem pagar, ainda que o verdadeiro custo de produção já seja tão baixo que não pode ser reduzido. Mas os lucros do empreiteiro são altíssimos porque o apelo à casa própria permite as vendas a qualquer preço. Após vendido, o produto não será pago." (Gabriel Bolaffi — A casa das ilusões perdidas).

A política do BNH, analisada neste texto, tem provocado nos últimos dois anos um(a)

a) fortalecimento financeiro e social das cooperativas habitacionais.

b) aumento significativo do número de trabalhadores sindicalizados na construção civil.

c) movimento social dos mutuários pela equivalência salarial das prestações.

d) diminuição do "déficit" habitacional.

e) elevação das vendas das habitações financiadas pelo SFH.

33 A greve dos 35 mil professores das Universidades Federais brasileiras, realizada entre maio e julho de 1984, indicou

- I – uma crise de crescimento e de expansão das universidades públicas.
- II – o comprometimento do Estado com o ensino público e gratuito.
- III – o papel subordinado do saber ao poder.
- IV – uma crise ligada à política econômica recessiva.

Está(ão) correta(s) somente a(s) afirmativa(s)

- a) I b) II c) II e IV d) I e III e) III e IV

GEOGRAFIA GERAL E DO BRASIL

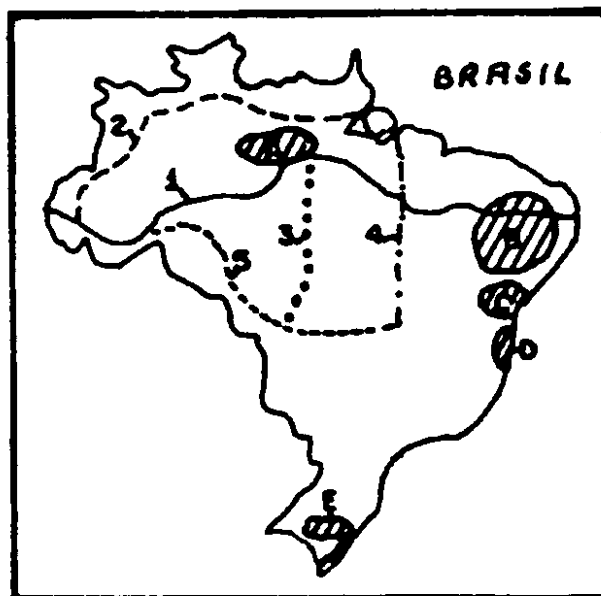
As questões 34 e 35 se referem ao mapa abaixo.

34 Os números de 1 a 5 indicam, no mapa, o traçado das principais rodovias de integração do Brasil. A alternativa que corresponde à seqüência dos números que indicam as rodovias Brasília-Acre, Cuiabá-Santarém, Belém-Brasília, Transamazônica, Perimetral Norte é

a) 54123 b) 14532

c) 53412 d) 25413

e) 32154



35 As letras A, B, C, D e E indicam, no mapa do Brasil, áreas de produção agrícola especializada. A alternativa que corresponde à seqüência formada pelas zonas produtoras de arroz, algodão, fumo, juta e cacau é

a) A, C, D, E e B.

b) E, B, C, A e D.

c) B, A, E, D e C.

d) C, E, B, D e A.

e) D, B, C, E e A.

36 O quadro abaixo indica alguns aspectos relativos às sub-regiões nordestinas.

Sub-Região	Formação vegetal	Base econômica	Densidade Demográfica
Zona-da-Mata	Floresta	B	elevada
Agreste	caatinga	policultura/pecuária	D
Sertão	caatinga	C	fraca
Meio-Norte	A	extrativismo vegetal	fraca

Os itens que preenchem corretamente os espaços A, B, C e D são, respectivamente,

- a) palmeirais, grande lavoura de exportação, pecuária/algodão, elevada.
- b) cerrado, monocultura, policultura, fraca.
- c) caatinga, monocultura, pecuária, elevada.
- d) floresta, lavoura de subsistência, pecuária, elevada.
- e) campos, grande lavoura de exportação, policultura, fraca.

37 Sobre as regiões brasileiras, pode-se afirmar que

- I – possuem aspectos físicos e sócio-econômicos bem caracterizados que as individualizam no contexto nacional.
- II – a região Norte possui o quadro natural mais homogêneo, onde a marca do homem na paisagem ainda é pouco significativa.
- III – a valorização dos solos de cerrado para fins agrícolas na região Centro-oeste responde pela diminuição de seu crescimento demográfico.
- IV – a região Nordeste, de quadros físicos variados, é individualizada por seus peculiares problemas sócio-econômicos.

Está(ão) correta(s) somente a(s) afirmativa(s)

- a) I, II e IV
- b) II e IV
- c) II, III e IV
- d) IV
- e) I, II e III

38 As “plantations” do Proálcool, ao expulsar o trabalhador do campo transformando-o em “bóia-fria”, geram a mais injusta relação de trabalho hoje existente na agricultura brasileira, provocando

- I – uma perda para a população, uma vez que o preço do álcool é vinculado ao preço do petróleo, o que resulta num programa inflacionário.
- II – a expulsão das lavouras de alimentos pela cultura canavieira, o que eleva os preços dos gêneros.
- III – prejuízo para os usineiros que não podem ampliar o tamanho de suas propriedades nem o patrimônio de suas instalações.
- IV – vantagens para a indústria automobilística que ganhou um combustível alternativo para ampliar sua produção.

Está(ão) correta(s) somente a(s) afirmativa(s)

- a) III
- b) I, II e III.
- c) III e IV.
- d) I, II e IV.
- e) II e III.

“O planejamento familiar já é feito no Brasil, mas é privilégio das famílias de classes média e alta. Entre os casais de baixa renda predomina o determinismo biológico. Planejamento é privilégio até do ponto de vista legal. Uma senhora grávida do quinto ou sexto filho, sem recursos, que decide procurar um hospital da rede pública para fazer uma ligadura de trompas certamente ouvirá do médico que isso é proibido. Existe, portanto, também a discriminação legal.”

Brig. Waldir de Vasconcelos, ministro-chefe do EMFA, In: Revista Veja, 15 ago. 1984, n.º 382, p. 5.

A partir desse depoimento, pode-se concluir que no Brasil o planejamento familiar é

- I – discriminatório e varia conforme as classes sociais.
 - II – regulamentado por uma política oficial do Governo.
 - III – dificultado pela discriminação legal.
 - IV – inadiável, pois o aumento populacional ameaça a integridade nacional.
- Está(ão) correta(s) somente a(s) afirmativa(s)

- a) III e IV b) I, II e IV **c) I e III** d) III e) II e IV

40 Qual das características abaixo NÃO se aplica à população nordestina?

- a) Elevada participação quantitativa (segunda região mais populosa).
- b) Desigual distribuição pelo território, concentrando-se no litoral.
- c) Pirâmide etária com base larga e ápice estreito.
- d) Dinamismo intra e interregional.
- e) Aumento da participação percentual através dos censos.**

41 A mobilidade da população brasileira é responsável pela ocupação do nosso território. Além das correntes migratórias tradicionais, surgiram nos últimos anos novas frentes de ocupação, onde colonos gaúchos e catarinenses conquistam uma nova fronteira agrícola: a região de Dourados, no Mato Grosso do Sul, que se destaca pela produção de soja. Rondônia, por outro lado, recebeu ultimamente cerca de 200.000 migrantes.

Das considerações acima, pode-se concluir que

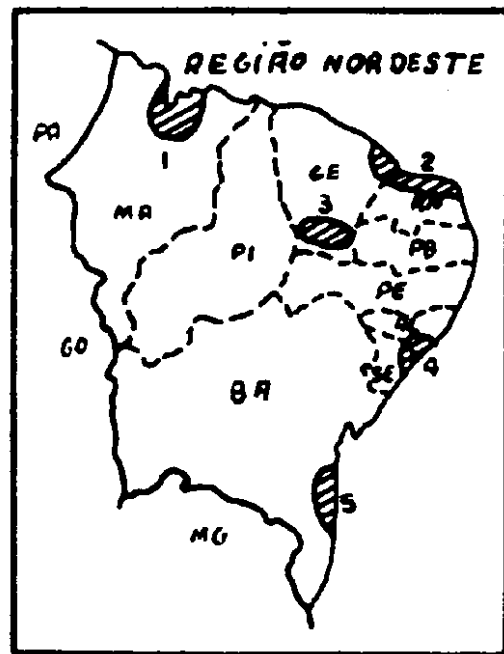
- a) a proximidade do mercado consumidor do Sudeste incentiva o dinamismo econômico da região de Dourados.
- b) os estados de Santa Catarina e Rio Grande do Sul são os que fornecem atualmente maior número de migrantes.
- c) as correntes migratórias tradicionais não exercem mais influência na ocupação do espaço brasileiro.
- d) a abertura de novas frentes de ocupação se relacionam com a implantação das rodovias de integração.
- e) áreas das regiões Norte e Centro-oeste constituem-se em novos focos de atração para a população migrante.**

As questões 42 e 43 estão relacionadas com o mapa.

- 42 Costas baixas, temperaturas elevadas durante todo o ano, ventos fortes, ar quase seco e marés altas são condições propícias ao desenvolvimento de importante atividade econômica.

A descrição se refere à área assinalada com o número

- a) 2, onde se concentra a produção salinera.
b) 1, onde os campos se voltam à produção de juta.
c) 4, onde os terrenos sedimentares propiciaram a ocorrência de calcário.
d) 3, onde a existência de grandes açudes possibilitam a pesca artesanal.
e) 5, onde se concentra a produção de arroz.



- 43 A ocorrência de solos sedimentares permeáveis possibilita a maior infiltração das águas pluviais, caracterizando a existência de uma área mais úmida que as adjacentes, onde se pratica a agricultura, e a população se adensa.

A descrição se refere à área assinalada com o número

- a) 4, onde desemboca o rio São Francisco.
b) 2, onde ocorre a chapada do Apodi.
c) 1, onde se situa a Guiana Maranhense.
d) 3, onde se localiza o Cariri Cearense.
e) 5, onde se concentra a produção cacaueteira.

44

“A estrada que liga Petrolina a Ouricuri, no sertão pernambucano, delimita a fronteira entre os dois Nordeste. Um, feliz, (...) compreende as grandes áreas irrigadas com a generosa água do rio São Francisco. Ali (...) algumas centenas de colonos obtiveram cada um no ano passado um lucro líquido de 17 milhões de cruzeiros, extraídos de suas plantações. (...) Do lado esquerdo da estrada fica o Nordeste cujas imagens foram a memória dos brasileiros. (...) Ali se vive em plena inclemência de um clima descrito como semi-árido, que ora leva os habitantes à inanição pela seca bravia, ora os mergulha em estêreis e violentas enchentes.”

In: Revista Veja, 2 de maio de 1984, n.º 817, p. 54.

O texto acima evidencia

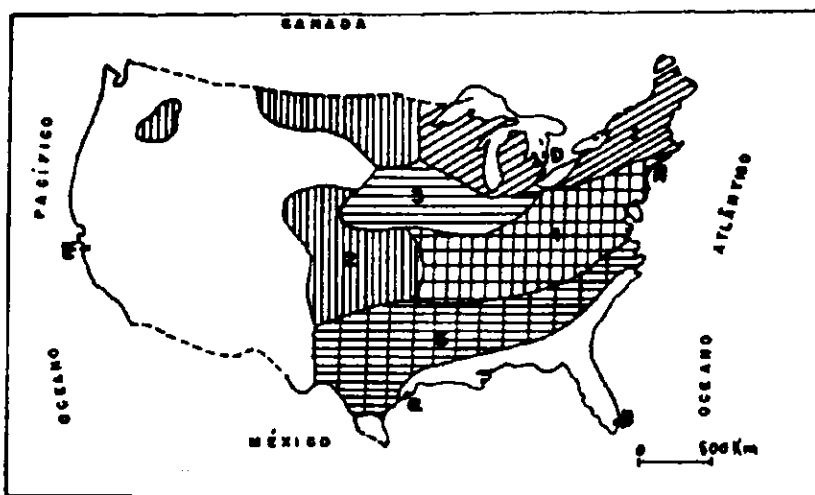
- I – os contrastes climáticos existentes na região semi-árida do Nordeste.
II – a importância da irrigação para o aproveitamento do Sertão Nordestino.
III – o contraste entre as áreas úmidas e secas da região Nordeste.
IV – a viabilidade de soluções para os problemas decorrentes da seca no Nordeste.

Está(ão) correta(s) somente a(s) afirmativa(s)

- a) II, III e IV. b) I, III e IV. c) I. d) II e IV. e) I, II e III.

- 45 Dentre as características abaixo, qual a que NÃO se aplica à economia nordestina?
- Produtividade agrícola baixa, tanto em relação à área cultivada como à mão-de-obra ocupada.
 - b** Deficiência do setor energético como principal entrave ao desenvolvimento Industrial.
 - "Pecuarização" de áreas agrícolas, agravando os problemas sociais do campo.
 - Diminuição da extensão das áreas dedicadas à policultura nos últimos anos.
 - Aplicação da política de incentivos fiscais insuficiente para consolidar o setor industrial.

As questões 46 e 47 referem-se ao mapa abaixo.



- 46 Os números de 1 a 5 indicam as regiões agrícolas especializadas dos EEUU, resultantes das aptidões climáticas, solos e boas condições de mercado.

Preenchendo as lacunas com a numeração correta

- () dairy belt (leite)
- () corn belt (milho)
- () wheat belt (trigo)
- () cotton belt (algodão)
- () trigo e milho

a seqüência obtida é

- a) 51243 b) 54123 c) 13245 d) 45123 **e) 13254**

- 47 As cidades indicadas pelas letras A, B, C, D e E são, respectivamente,

- Nova York, Dallas, San Francisco, Miami, Houston.
- Washington, Nova York, Detroit, Houston, Miami.
- c** Nova York, Miami, Houston, Detroit, San Francisco.
- Cleveland, Nova York, Detroit, Dallas, San Francisco.
- Washington, Miami, Detroit, San Francisco, Chicago.

48 Considerando as características das regiões argentinas, numere a 2.º coluna de acordo com a 1.ª

- | | |
|--|-----------------|
| (1) Domínio de planícies densamente povoadas, onde se cultivam cereais e se conservam as pastagens para a pecuária. | () Chaco |
| (2) Predomínio de planícies fracamente povoadas, onde a agricultura (90% da superfície cultivada com o algodão) está condicionada à irrigação. | () Patagônia |
| (3) Presença de relevo variado, indo desde as formas tabulares às onduladas coxilhas. Nas suas matas explora-se a madeira, e extrai-se o mate. | () Pampa |
| (4) Condições climáticas obstaculizando a ocupação humana, onde a pecuária extensiva é a principal atividade. | () Andes |
| (5) Vegetação complexa com áreas inundáveis durante as cheias dos rios. Domínio da pecuária extensiva. | () Mesopotâmia |
| (6) Condições de vida difíceis onde a pecuária (ovinos) é a principal atividade aliada à mineração. | |

A seqüência obtida é

a) 24361

b) 21436

c) 32451

d) 24163

e) 12365

49 A riqueza petrolífera permite à Venezuela colocar-se entre os maiores produtores e exportadores do mundo, que, além disso, ainda é beneficiada pelo(a)

- a) excelente índice de consumo interno.
- b) sua posição geográfica próxima aos grandes mercados de consumo.
- c) sua numerosa e qualificada mão de obra nacional.
- d) facilidade de escoamento da produção através das modernas vias de transporte.
- e) assistência governamental prestada às fases de exploração e comercialização do produto.

50 O Prêmio Nobel da Paz de 1984 foi concedido ao bispo Desmond Tutu, pelo reconhecimento feito à sua resistência contra um sistema por ele considerado, "tão depravado, cruel e imoral quanto o comunismo e o nazismo". O bispo anglicano premiado desenvolve sua luta contra o(a)

- a) revolução iraniana.
- b) guerra árabe-judaica.
- c) "apartheid" na África do Sul.
- d) conflito armado nicaraguense.
- e) invasor americano em São Salvador.

51 A radical violência política, que hoje ocorre no Oriente Médio, ameaça a paz mundial. Isto se liga ao fato de que

- I — a empresa multinacional, operando em mercados de crédito que extrapolam as fronteiras dos países, interfere politicamente em escala multinacional.
- II — seus problemas políticos e econômicos ultrapassam os limites regionais e promovem disputas pela hegemonia territorial, através de atentados, invasões, bombardeios e guerras.
- III — as organizações formadas pelos países produtores de petróleo representam uma grande força econômica e política mundial, lutando pelo controle da OPEP.
- IV — a forte competição pelo monopólio dos mecanismos de extração, refino e comercialização do petróleo conduz ao conflito árabe-israelense, à questão palestina e, sobretudo, à revolução iraniana.

Está(ão) correta(s) somente a(s) afirmativa(s)

a) I, III e IV

b) III

c) I e II

d) II e IV

e) I

52 A forma de exploração por "fazenda do Estado" transfere diretamente à terra o esquema e gênero de vida da sociedade industrial. A exploração agrícola, geralmente muito grande — vários milhares de hectares — é gerida como numa empresa industrial. Seus trabalhadores recebem prêmios adicionais quando sua produção supera a prevista pelos planos quinquenais.

Tal descrição refere-se à vida rural da, do(s)

a) URSS
d) França

b) EEUU
e) Oriente Médio

c) Inglaterra

53 Considerando que o maior percentual de população chinesa pertence à zona rural, pode-se afirmar que

- I — as maiores concentrações de DK coincidem com as terras cultivadas.
- II — as terras elevadas, desfavoráveis para o cultivo agrícola, são, em parte, responsáveis pelo seu vazio demográfico.
- III — os chineses constituem a quase totalidade da sua população (94%).
- IV — a população de 900 milhões de hab. cresce à razão de 1,8% ao ano.

Está(ão) correta(s) somente a(s) afirmativa(s)

a) II

b) I e II

c) IV

d) III e IV

e) I, III e IV

- 54 A França, mesmo sendo grande potência econômica européia, apresenta disparidades de desenvolvimento no seu território. Os maiores índices de crescimento econômico aparecem no(a)
- oeste, sudoeste, norte e leste.
 - oeste, sudoeste e centro.
 - região parisiense, sudoeste, centro e sul.
 - região parisiense, norte, leste e sudeste.**
 - sudeste, sudoeste, centro e leste.

55 O quadro que segue refere-se ao crescimento vegetativo de alguns países.

PAIS	%
BRASIL	2,8
VENEZUELA	3,0
EEUU	1,1
URSS	1,0
FRANÇA	0,6
REINO UNIDO	0,5

Em função dos dados acima, a realidade está melhor representada pela seguinte opção

	PAIS				PAIS		
	Net. %	Mort. %			Net. %	Mort. %	
a)	Brasil	40	12	b)	Brasil	40	12
	Venezuela	36	6		Venezuela	36	6
	EEUU	18	7		EEUU	17	11
	URSS	18	8		URSS	16	11
	Franga	17	11		Franga	18	7
	Reino Unido	16	11		Reino Unido	18	8
c)	Brasil	18	7	d)	Brasil	18	7
	Venezuela	18	8		Venezuela	18	8
	EEUU	40	12		EEUU	17	11
	URSS	36	6		URSS	16	11
	Franga	17	11		Franga	40	12
	Reino Unido	16	11		Reino Unido	36	6
	PAIS	Net. %	Mort. %		PAIS	Net. %	Mort. %
	Brasil	17	11		Brasil	17	11
	Venezuela	16	11		Venezuela	16	11
	EEUU	40	12		EEUU	40	12
	URSS	36	6		URSS	36	6
	Franga	18	7		Franga	18	7
	Reino Unido	18	8		Reino Unido	18	8