

COPERVE

COMISSÃO PERMANENTE DO CONCURSO
VESTIBULAR

CONCURSO VESTIBULAR
UNIFICADO



ESTUDOS SOCIAIS

--	--	--	--	--	--	--

INSCRIÇÃO

ASSINATURA DO CANDIDATO

UNIVERSIDADE FEDERAL DA PARAÍBA
UNIVERSIDADE REGIONAL DO NORDESTE
INSTITUTOS PARAIBANOS DE EDUCAÇÃO

ATENÇÃO!

— Em cada questão existem 5 (cinco) alternativas para resposta, sendo correta apenas uma.

HISTÓRIA GERAL E DO BRASIL

01 Na ordem técnica, as origens das civilizações relacionam-se com a progressiva substituição dos instrumentos de pedra pelos de metais. De acordo com o gráfico ao lado, isso veio a ocorrer, pioneiramente,

- a) no Egito, a partir do V milênio a.C.
- b) no Mediterrâneo Oriental, entre as séculos IV e III a.C.
- c) na Europa Central e Ocidental, após 3.000 a.C.
- d) no Mediterrâneo Ocidental, cerca de 2.700 a.C.
- e) na Europa Setentrional, em meados do I século a.C.

Anos	Egito	Mediterrâneo Oriental	Mediterrâneo Ocidental	Europa Central	Europa Ocidental	Europa Setentrional
1.000						
1.500		IDADE DOS METAIS				
2.000						
2.500						
3.000						
3.500						
4.000			IDADE DA PEDRA			
4.500						
5.000						

Fonte: A.ARRUDA, José Jobson. História Antiga e Medieval, 3a. ed. S. Paulo, Ática, 1979, p. 37.

02 No Egito, Mesopotâmia e Pérsia, as comunidades existiam a fim de trabalhar para o Estado. Tal forma de exploração foi característica do chamado "Modo de Produção Asiático", pois os camponeses

- a) confiavam a terra aos prisioneiros de guerra e se incorporavam às milícias nacionais.
- b) trabalhavam todos juntos, a fim de obterem, reciprocamente, fartura, enriquecimento e ascensão social.
- c) importavam escravos ocidentais e se dedicavam às atividades ligadas ao comércio.
- d) permaneciam ligados à terra, entregando, obrigatoriamente, o excedente produzido à estrutura do poder.
- e) ficavam livres da servidão e se tornavam, individualmente, proprietários das terras cultivadas.

03

*"... Alexandre figura desumana, fundador da famosa Alexandria
Conquistava na Grécia e destruiu, quase toda a população tebana
A beleza atrativa de Roxana dominava o maior conquistador
E depois de vencê-lo, o vencedor entregou-se à pagã mais que formosa ..."*

— Nestes versos musicados, da autoria de Francisco Guedes Patriota e José Ramalho Neto, acha-se implícita a concepção cultural relativa à fusão greco-oriental. Trata-se do

- a) Paganismo, caracterizado pela unificação religiosa da Hélade com todas as terras asiáticas, conquistadas por Felipe.
- b) Sofismo, expresso sobretudo com a destruição de Tebas, quando esta ousou libertar-se do jugo macedônico.
- c) Helenismo, estimulado até mesmo através da união de Alexandre com uma princesa da corte persa.
- d) Colonialismo, exemplificado por meio da emigração grega para o Oriente, a partir da fundação de Alexandria.
- e) Imperialismo, demonstrado pela vasta extensão territorial dos domínios macedônicos, que se estenderam da Grécia ao Egito.

04 Sobre os Cruzados, pode-se afirmar que

- I — o Novo Testamento e o Alcorão defendiam o princípio da Guerra Santa.
- II — o próprio Papa liderava, militarmente, cada expedição que se dirigia ao Oriente.
- III — o movimento tinha, entre outras metas, a libertação do Santo Sepulcro das mãos dos infiéis.
- IV — os turcos seldjúcidas uniram-se aos cristãos, na luta contra os árabes.
- V — as principais cidades italianas participaram das lutas, visando obter o controle do Mediterrâneo Oriental.

— Estão corretas somente as afirmativas

a) I e III

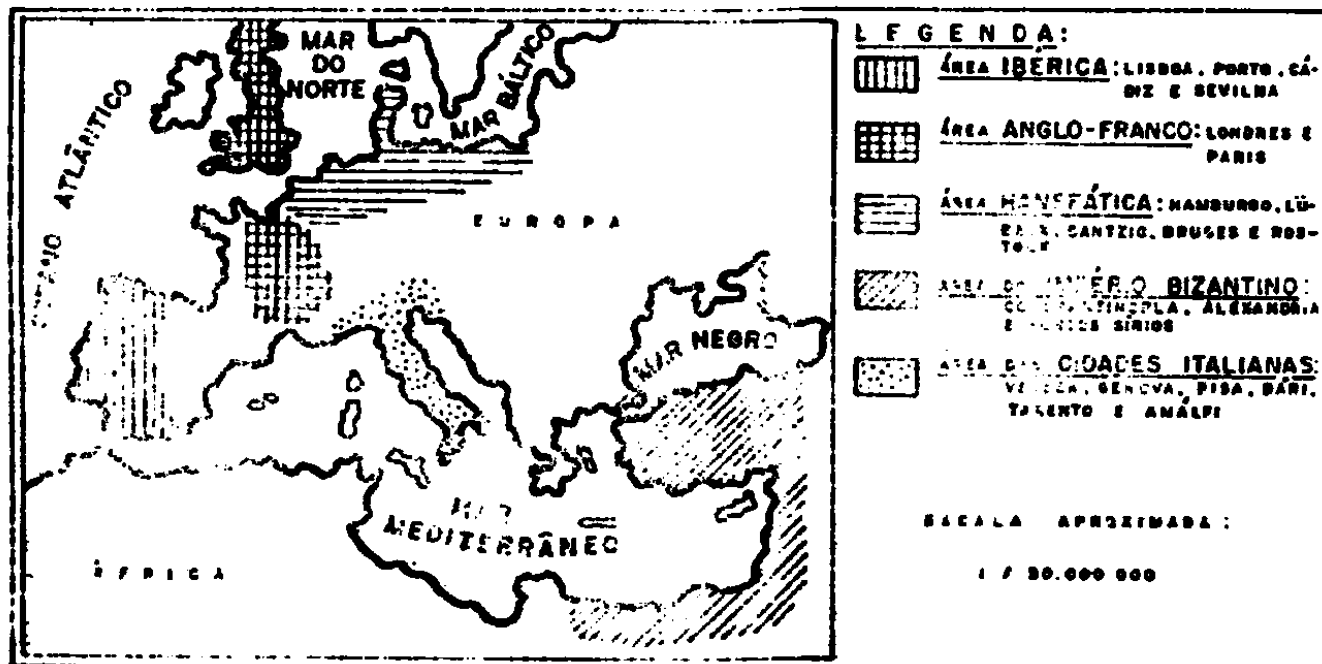
b) II e IV

c) III e V

d) I, II e IV

e) I, IV e V

05



Aplicando-se o mapa acima, pode-se dizer que as áreas relativas aos dois centros comerciais da Europa medieval, antes do renascimento do comércio, foram, respectivamente, as

a) Ibérica e Anglo-Franca.

c) Bizantina e Ibérica.

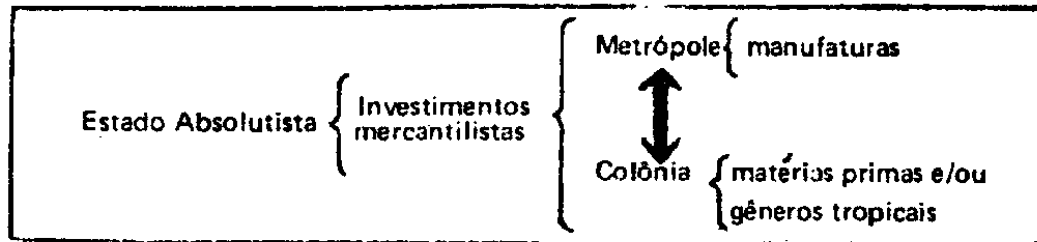
b) Hanseática e cidades italianas.

d) Anglo-Franca e cidades italianas.

e) Hanseática e Bizantina.

- 06 Espírito crítico e método experimental caracterizaram o progresso científico do Renascimento. Tais características, deste movimento, se encontravam expressas, por ocasião da
- invenção da roda aplicada aos transportes terrestres.
 - divisão do tempo, através da criação de um calendário solar.
 - utilização dos algarismos ditos arábicos, em substituição aos romanos.
 - descoberta dos cálculos de áreas referentes ao círculo e trapézio.
 - comprovação de que a Terra gira em torno do Sol.**

07



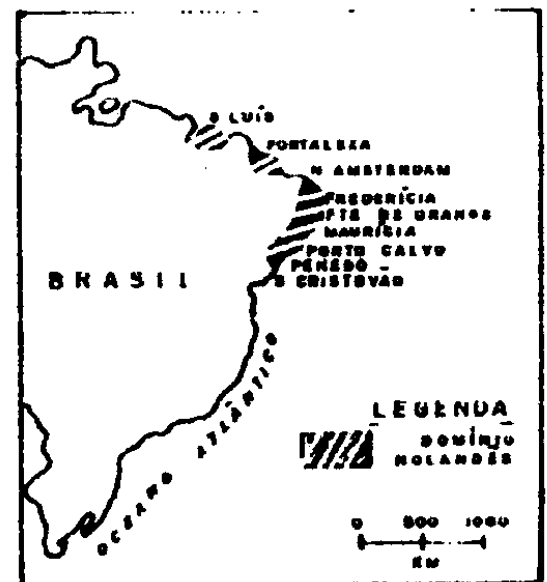
— O esquema acima refere-se à relação entre Metrópole e Colônia. A seta dupla, em destaque, corresponde ao(s)

- incremento às atividades industriais.
 - privilégios de abertura dos portos.
 - sistema de monopólio comercial.**
 - critérios administrativos autônomos.
 - regime de livre concorrência produtiva.
- 08 Dentre os aspectos sociais comuns aos diversos grupos indígenas do período colonial brasileiro, destaca-se a
- inexistência de classes sociais caracterizada pelas condições de vida comunal.**
 - participação intensa das mulheres nas decisões guerreiras das tribos.
 - marginalização das pessoas mais velhas como resultante da inaptidão no trabalho.
 - solidariedade entre os membros pertencentes às mais diversas nações.
 - influência diminuta dos pajés nos cuidados dispensados aos enfermos.

09

No mapa ao lado, percebe-se que o interior nordestino não foi ocupado pelos holandeses. O motivo da permanência dos invasores na área litorânea justifica-se, em face da(o)

- forte resistência lusitana firmada nas principais cidades e vilas do sertão.
- interesse primordial pelo açúcar produzido e garantia de controle do comércio marítimo.**
- questão dos limites territoriais das capitanias que não atingiam a orla marítima.
- dependência do interior nordestino ao domínio administrativo das capitanias do Sul.
- cumprimento do acordo luso-holandês por Maurício de Nassau.



10 Os versos ao lado fazem alusão ao barroco mineiro que predominou na arte da "Idade de Ouro do Brasil". Essa inovação no barroco se firmou como

- a) absorção de elementos góticos pela arquitetura e escultura do período colonial brasileiro.
- b) reação aos entalhes decorativos comumente empregados pelos indígenas nas peças artesanais, como expressão do sentimento religioso.
- c) afirmação dos artífices estrangeiros, que menosprezavam a cultura local ainda embrionária.
- d) penetração da arte oriunda do continente africano, em oposição às tradições da cultura lusitana.
- e) associação do sentimento religioso com as riquezas da região mineradora, expressa na arte e arquitetura sacras.

*"No anfiteatro de montanhas
Os profetas do Aleijadinho
Monumentalizavam a paisagem.*

*As cúpulas dos Passos
E os cocares verdes das palmeiras*

São degraus da arte do meu país

Onde ninguém mais subiu.

Bíblia de pedra-sabão

Banhada no ouro das Minas."

Fonte: ANDRADE, Oswald de. Apud MARQUES, A. Martins e FARIA, R. de Moura. *Nova História*, 3a. ed. São Paulo, Lã, 1979, p. 98.

11 **ALFORRIAS ARROLADAS EM NOVE MUNICÍPIOS PARAIBANOS NOS ANOS DE 1850—1888**

<i>Tipos de Alforrias</i>	<i>nº de Alforrias</i>	<i>%</i>
<i>Gratuitas</i>	479	45,5
<i>Compradas</i>	270	25,6
<i>Condicionais</i>	199	19,0
<i>Fundo de Emancipação</i>	44	4,2
<i>Por testamento</i>	30	2,9
<i>Sem dados precisos</i>	13	1,2
<i>Ação Judicial</i>	17	1,6
Total	1.052	100,0%

Fonte: GALLIZA, Diana Soares de. **O Declínio da Escravidão da Paraíba 1850—1888**. João Pessoa, Ed. Universitária, 1979, p.143.

- De acordo com o quadro acima, relativo às cartas de alforrias concedidas, pode-se concluir que

- I — o grande índice de alforrias gratuitas deveu-se à crise econômica do Nordeste, que coincidiu com o declínio da escravidão.
- II — o fundo de emancipação, a ação judicial e as decisões testamentais representaram, conjuntamente, uma significativa soma de alforrias concedidas.
- III — as concessões de liberdade compradas foram superiores a todos os tipos de alforrias mencionados.

A partir das conclusões (I, II e III), pode-se afirmar que

- a) somente a afirmativa (I) é correta.
- b) somente a afirmativa (II) é correta.
- c) somente a afirmativa (III) é correta.
- d) há, pelos menos, duas afirmativas corretas.
- e) as três afirmativas são corretas.

12 Acerca do reconhecimento da Independência do Brasil, pode-se afirmar que

- I — os Estados Unidos foram o último país a apoiar o governo de D. Pedro I, no continente americano.
- II — a Santa Aliança deu amplo incentivo à emancipação nacional.
- III — a influência britânica foi decisiva no reconhecimento por Portugal, de nossa independência política.
- IV — o reino português exigiu uma certa indenização financeira para aceitar a soberania da antiga Colônia.

— Estão corretas

- a) todas as quatro afirmativas.
- b) apenas I, III e IV.
- c) apenas II, III e IV.
- d) apenas I e II.
- e) apenas III e IV.

13 Após a implantação do regime republicano, no Brasil, ocorreu a

- a) queda dos proprietários rurais do poder.
- b) ascensão social da classe trabalhadora apoiada pelos militares.
- c) extinção do regime representativo no país.
- d) permanência da elite agrária como liderança política.
- e) elaboração de uma constituição contrária ao federalismo.

14 Aponta-se como uma das razões explicativas do surgimento do cangaço, no sertão nordestino, a

- a) exaltação dos sentimentos nacionalistas.
- b) conscientização política dos seus líderes.
- c) condição de extrema miséria da região.
- d) defesa dos princípios da reforma agrária.
- e) rebelião contra o fanatismo religioso.

15 Com a deposição de Getúlio Vargas, em 1945, foi iniciada uma nova fase na política nacional, caracterizada como

- a) retorno a uma forma de regime ditatorial.
- b) tentativa de implantação do parlamentarismo.
- c) restauração do centralismo da República Velha.
- d) processo favorável ao modelo democrático.
- e) restrição ao fortalecimento das agremiações partidárias.

“ A massa de grevistas desfila ante uma construção, onde se escondem algumas mulheres, filhas ou esposas de proprietários, diretores ou acionistas de minas.

– Pão ! Pão ! Queremos pão !

Eram os grevistas que invadiam Montsou...

[Era]... uma massa compacta que andava como um bloco...cantando a Marselhesa, cujas estrofes se perdiam em ruídos confusos. Acima das cabeças, entre barras de ferro erguidas, surgiu um machado; e este machado sozinho, dava a impressão do perfil agudo de uma guilhotina.

...Era a visão vermelha da revolução que os movia, fatalmente, para uma jornada sangrenta neste fim de século. [XIX]

[Apenas]...um grande grito se elevava, dominando a Marselhesa:

Pão ! Pão ! Queremos pão ! ”

– Muitos romancistas escreveram, tendo, por contexto, abordagens históricas do seu tempo, como é o caso de Émile Zola. O trecho acima, da obra **Germinal**, põe em evidência a

- a) manifestação popular em defesa da elevação dos índices salariais, durante a transição do Modo de Produção Feudal para o Modo de Produção Socialista.
- b) comemoração da classe operária pelo atendimento de suas reivindicações relativas à distribuição alimentar, gratuita, pelo Estado.
- c) existência de focos de agitações de caráter antinacionalista que, sob a “bandeira da fome”, tramam a derrubada do governo constituído.
- d) crueza das questões sociais relacionadas com as desigualdades promovidas pela ordem capitalista, contestada ideologicamente
- e) resistência armada dos trabalhadores em prol da preservação do regime socialista, ameaçado de ser substituído pelo capitalista.

17 Paradoxalmente, entre os próprios países do bloco socialista, observam-se cisões, incoerências e agressões, o que compromete as antevisões teóricas de um “paraíso vermelho” internacional.

– Quais, dentre os exemplos abaixo, confirmam este pressuposto?

- I – A URSS cortou ajuda financeira e técnica a Pequim, face às divergências, críticas divulgadas e conflitos fronteiriços.
- II – A Albânia afastou-se da URSS e se ligou à China, até 1977. Posteriormente, condenou a política externa chinesa que apoiou a corrida armamentista do Irã e da OTAN.
- III – A URSS utilizou-se das forças do Pacto de Varsóvia, instituído para garantir a segurança dos países membros e interveio, com violência, na Hungria (1956) e na Tchecoslováquia (1968).
- IV – A Polônia, que se proclama país operário, reprimiu greves, colocou na ilegalidade o “Solidariedade”, aprisionou trabalhadores e, por fim, estabeleceu a lei marcial contra o povo.
- V – O Vietnã comunista fez guerra contra o Camboja comunista e ambos perseguiram suas próprias populações, que tentaram refúgio em países não comunistas.

– Confirma(m) o pressuposto

- a) somente as afirmativas I e II.
- b) somente as afirmativas III e IV.
- c) somente as afirmativas I, III e V.
- d) somente a afirmativa IV.
- e) todas as cinco afirmativas.

18 Considerando a política econômica, estabelecida pelo Governo de Juscelino Kubitschek, constata-se que

- I — a independência econômica foi conseguida com o impedimento da tecnologia e financiamentos estrangeiros.
- II — a industrialização foi apontada como passo decisivo para o desenvolvimento nacional.
- III — os investimentos estatais impulsionaram o crescimento de vários setores nacionais.
- IV — a partir de 1958, em consequência do aumento de exportações, a inflação entrou em declínio.

— Estão corretas somente as afirmativas

- a) III e IV
- b) II e III
- c) I e II
- d) I, II e IV
- e) I, III e IV

19 A partir do período 1967/68, registrou-se um crescimento econômico no país, através da reativação do setor industrial, mais conhecido como o "o milagre brasileiro". Dessa forma, reconhece-se, como condicionante de mudanças ocorridas,

- I — a expansão das exportações industriais.
- II — o incentivo ao sistema de crédito destinado ao consumidor.
- III — a proibição aos investimentos estrangeiros na indústria.
- IV — a diminuição de empresas estatais, tendo em vista o favorecimento da iniciativa privada.

— São verdadeiras somente as afirmativas

- a) I e II
- b) III e IV
- c) I, II e IV
- d) I, III e IV
- e) II, III e IV

20

"Esta noite, sete semanas após a agressão argentina, forças britânicas voltaram a se instalar firmemente nas ilhas Falkland."

— John Nott, ministro da defesa da Inglaterra, em 21 de maio de 1982.

O depoimento acima alusivo ao "retorno britânico" às ilhas em questão, relaciona-se com a

- a) rápida substituição de emigrantes argentinos por colonos ingleses, autorizada pela ONU.
- b) dramática rendição da marinha britânica, no Atlântico, às forças aliadas da Argentina e USA.
- c) vitoriosa reconquista argentina de seus territórios insulares, recém-invadidos pelos ingleses.
- d) inesperada invasão argentina, que interrompeu o domínio britânico de mais de um século.
- e) hábil ação diplomática dos USA, que pôs fim ao conflito e devolveu o arquipélago à Inglaterra.

21

A partir do Concílio Vaticano II e em face da realidade social do país, a Conferência Nacional dos Bispos do Brasil (CNBB) tem-se preocupado com

- a) o apoio irrestrito aos setores empresariais e latifundiários.
- b) a defesa dos menos favorecidos na luta por uma sociedade mais justa.
- c) a condenação da liberdade política defendida pelos líderes sindicais.
- d) o fortalecimento dos movimentos condizentes com os interesses da alta classe média.
- e) os assuntos específicos do setor doutrinário, sem preocupações sociais.

- 22 Atualmente, conspira contra a estabilidade e a paz no Oriente Médio a chamada "questão Palesti-
na". Este problema tem suas raízes, na
- a) reivindicação de um Estado soberano para abrigar a diáspora de 4,5 milhões de pessoas privadas de uma pátria, a partir do estabelecimento de Israel.
 - b) repetição dos massacres de refugiados em Beirute pelas tropas israelenses, que desejam liderar uma confederação de todos os países árabes da Ásia Menor.
 - c) impiedosa investida no Líbano por forças aliadas da OLP e de Israel, para expulsar todos os cristãos de Beirute Ocidental.
 - d) decisão da ONU em devolver a Israel todas as terras que faziam parte de seus antigos domínios, da época de David e Salomão.
 - e) sistemática recusa por parte de todos os países árabes em receber os apatriados palestinos, liderados por Yasser Arafat.

O S P B

- 23 A eficiência do processo educacional familiar depende, inclusive, do relacionamento entre os pais. Para que dessa relacionamento resultem efeitos positivos sobre os filhos, torna-se fundamental o(a)
- a) temor e a obediência da mulher ao seu marido, como chefe supremo.
 - b) acomodação e assimilação do homem, face a todos os anseios de total liberdade da mulher.
 - c) efetiva integração e complementação dos cônjuges, condição que dispensa o apelo: "quem ama não mata".
 - d) imposição aos filhos dos padrões comportamentais, ditados pela cultura dos antepassados.
 - e) processo de adaptação dos pais à necessidade de atender, prontamente, às determinações dos filhos.
- 24 "Não deixe o samba morrer" é uma das advertências da classe artística do Brasil, uma vez que, tanto quanto o futebol, as festas juninas e o carnaval, o samba faz parte da cultura do povo brasileiro. O apelo do cantor reflete
- a) o início de um processo de integração entre aquele ritmo e a preferência musical da população brasileira.
 - b) uma simples expressão musical, isolada do contexto cultural, porquanto samba e cultura são realidades dissociadas.
 - c) a inexistência de uma política mais efetiva que controle os intercâmbios culturais, preservando os traços próprios da cultura do povo brasileiro.
 - d) a necessidade econômica em que vive toda classe artística brasileira.
 - e) o desconhecimento de que o samba jamais esteve ameaçado por músicas estrangeiras.
- 25 As alterações introduzidas na legislação previdenciária, com o "pacote da previdência", objetivaram, através da participação direta do trabalhador, a(o)
- a) redução do deficit previdenciário, mediante um maior desconto sobre o seu salário.
 - b) planejamento da política de ação do Ministério da Previdência e Assistência Social (MPAS).
 - c) supervisão da assistência médica prestada pelo Instituto Nacional de Assistência Médica da Previdência Social (INAMPS).
 - d) fiscalização da receita e despesa da previdência social.
 - e) determinação sobre o valor do salário de benefício a ser pago ao aposentado por invalidez.

- 26 Das transformações ocorridas na economia brasileira nas últimas décadas, o crescimento do setor industrial foi um dos mais importantes. Todavia, esse crescimento continua dependendo da(de)
- tecnologia e capital estrangeiros.
 - espaços físicos para a expansão das grandes e médias empresas, os quais são, de fato, inexistentes.
 - mão-de-obra, quantitativamente, insuficiente.
 - rodovias e transportes de carga, entre as grandes cidades, que não foram sequer programados.
 - potencial energético de que o Brasil não dispõe em seu território.
- 27 O debate nacional sobre a reforma educacional do País tem provocado, entre estudantes e professores, uma série de discussões sobre vários temas, dentre os quais, destaca-se a
- desnecessária expansão, na zona rural, de escolas de 2.^o grau.
 - diminuição das vagas destinadas ao ensino de 1.^o grau.
 - padronização dos métodos de ensino para os cursos de 1.^o e 2.^o graus.
 - defesa do ensino público e gratuito em todos os níveis.
 - comprovada melhoria da qualidade do ensino de 1.^o, 2.^o e 3.^o graus.
- 28 Aos juízes e Tribunais Eleitorais, entre outras atribuições, compete
- presidir todas as comissões dos partidos políticos.
 - organizar a campanha dos candidatos a cargos eletivos.
 - elaborar o estatuto de cada partido político.
 - solucionar as dissidências partidárias.
 - registrar e/ou cassar o registro dos partidos políticos.
- 29 Dentre as alternativas, abaixo, assinale aquela que caracterizou as eleições de 15 de novembro de 1982.
- Revogação da Lei Falcão.
 - Vinculação total de votos.
 - Permissão de coligações partidárias.
 - Não utilização, na prática, do poder econômico.
 - Alistamento eleitoral facultativo.
- 30 O problema das secas, na região nordeste, constitui um dos fatores que impede o seu desenvolvimento e dificulta a necessária integração nacional. Para solucioná-lo, os órgãos regionais de planejamento vêm adotando, principalmente, a seguinte medida:
- destocamento da mão-de-obra do meio rural para o parque industrial do sudeste.
 - atendimento pleno a todas as reivindicações da classe política, sensibilizada com os problemas da população sertaneja.
 - criação de frentes de trabalho nas áreas consideradas como "bolsões de seca".
 - implantação integral da reforma agrária, com vistas à centralização da produção.
 - execução de programas educacionais como meio de aumentar, de imediato, a renda econômica da população do campo.

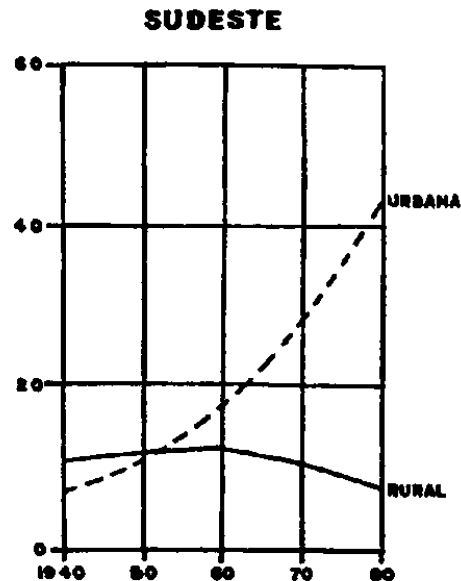
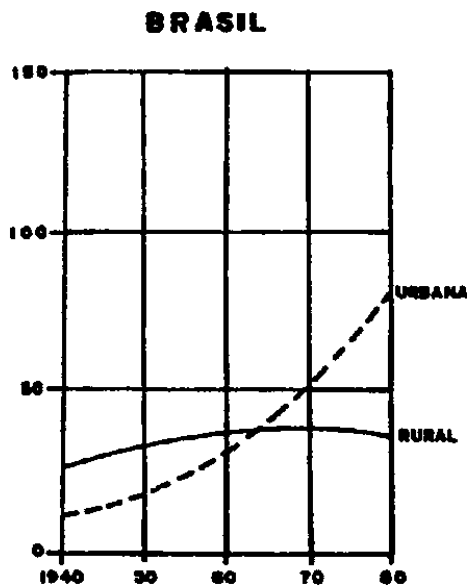
- 31 Do ponto de vista do Governo Brasileiro, o país precisa dar prioridade à exportação. Esse objetivo, entre outros, se deve à necessidade de
- pegar sua dívida externa aos banqueiros internacionais.
 - evitar que a crise da economia mundial atinja o equilíbrio do desenvolvimento econômico nacional.
 - controlar, em seu próprio benefício, o comércio internacional.
 - colocar no mercado mundial toda a produção do setor agrícola do país.
 - ampliar, politicamente, seu poder de influência junto às nações desenvolvidas.
- 32 Na atual conjuntura econômica brasileira, o processo inflacionário atinge, fortemente, a classe média e a população de baixa renda. Para estas, o referido processo provoca também a(o)
- diminuição da capacidade financeira para a aquisição dos meios necessários à própria sobrevivência.
 - crescimento de fortes conflitos sociais, entre as referidas classes.
 - acentuada diferenciação entre as suas opções político-partidárias.
 - total passividade diante dos constantes reajustes de preço de gêneros alimentícios, água, luz e transportes coletivos.
 - aumento de compras à vista, em razão do enfraquecimento do poder aquisitivo, face ao achatamento dos salários.
- 33 João Pessoa conta, aproximadamente, com 45 favelas cuja população está em torno de 90 mil habitantes. Estas se constituem, hoje, em movimentos urbanos que causam grandes preocupações para a administração municipal e estadual. A explicação fundamental desse fenômeno urbano está na
- carência de habitações para as famílias de baixa renda que, não dispondo de suficientes recursos financeiros, constroem barracos em áreas insalubres.
 - falta de ânimo para o trabalho, o que contribui para o aumento da marginalidade urbana.
 - criação de áreas de lazer nas grandes cidades, o que satisfaz a população residente no meio rural.
 - deficiência de recursos financeiros que garantam a fixação do homem no campo e a existência de maiores oportunidades de emprego nas cidades.
 - pouca preocupação da administração municipal e ausência de vigilância policial com os espaços desabitados, existentes nas cidades.

GEOGRAFIA GERAL E DO BRASIL

- 34 Recente descoberta de minério de ferro, na Região Norte do Brasil, originou a execução de um projeto que viabilizará sua exploração. Tal projeto inclui a construção de um porto especialmente equipado, para o escoamento do minério. A jazida e o porto localizam-se, respectivamente, em
- Serra Pelada e Santarém, ambos no Pará.
 - Serra dos Carajás, no Pará, e Itaqui, no Maranhão.
 - Serra dos Carajás e Marabá, ambos no Pará.
 - Serra do Navio e Macapá, ambos no Amapá.
 - Serra Aripuanã, no Amazonas, e Óbidos, no Pará.

- 35 A Superintendência do Desenvolvimento da Amazônia (SUDAM) é o órgão responsável pelo desenvolvimento da chamada AMAZÔNIA LEGAL, que compreende, além da Região Norte,
- a) o estado de Mato Grosso.
 - b) o estado do Maranhão e o norte de Goiás.
 - c) o norte de Mato Grosso e Goiás, e o oeste do Maranhão.
 - d) os estados de Mato Grosso e Goiás.
 - e) o oeste do Maranhão e o norte de Goiás.
- 36 Em relação ao panorama do sistema de transportes, no Brasil, verifica-se que
- a) há predominância do transporte rodoviário e pequena participação das ferrovias e hidrovias, no transporte de cargas.
 - b) o sistema rodoviário é hipertrofiado em relação aos demais, por ser o mais conveniente para o transporte de cargas.
 - c) recentemente as ferrovias têm sido dinamizadas e tendem a igualar-se, em extensão, às rodovias.
 - d) as hidrovias são subaproveitadas e predominam nas Regiões Sudeste e Sul.
 - e) ferrovias e rodovias se interligam de tal forma, a promover um intercâmbio satisfatório entre as regiões.
- 37 Analisando-se os problemas da agricultura brasileira, pode-se afirmar que
- a) os sistemas agrícolas mais evoluídos são utilizados na produção de gêneros alimentícios.
 - b) existem ainda, em grande escala, sistemas agrícolas primitivos e depredadores dos recursos naturais.
 - c) a pobreza dos solos constitui-se no maior entrave ao aumento da produção agrícola.
 - d) em relação à estrutura fundiária, predominam, em área ocupada, as pequenas e médias propriedades.
 - e) as condições de tropicalidade do país impedem o estabelecimento de técnicas agrícolas evoluídas.
- 38 A atividade que promoveu o desbravamento do sertão nordestino, desenvolvendo-se de forma subsidiária à lavoura canieira, foi o(a)
- a) extrativismo vegetal.
 - b) agricultura de subsistência.
 - c) lavoura de pés-de-serra.
 - d) pequena agricultura comercial.
 - e) criação de gado.
- 39 A cultura produzida no Recôncavo Baiano, Agreste da Paraíba e estados de Sergipe e Alagoas, que exige solos e clima adequados, além de trabalhos intensivos, incluindo adubação química e orgânica, é o (a)
- a) fumo.
 - b) cana-de-açúcar.
 - c) agave.
 - d) arroz.
 - e) abacaxi.

As questões de números 40 e 41 baseiam-se na análise dos gráficos abaixo, relativos às diferenças de comportamento das curvas de crescimento da população rural e urbana, do Brasil e da Região Sudeste.



- 40
- A população rural do Sudeste corresponde à metade da população rural brasileira, em 1980.
 - No Brasil, a população urbana ultrapassou a rural, em 1970.
 - O crescimento da população urbana brasileira se faz em função do crescimento vegetativo.
 - A população rural do Brasil passou, aproximadamente, de 25 milhões para 45 milhões, entre 1940 e 1980.
 - A população urbana do Brasil se concentra nas pequenas cidades.
- 41
- A Região Sudeste é a menos industrializada das regiões brasileiras.
 - As curvas de crescimento da população rural do Brasil e do Sudeste apresentam comportamento idêntico.
 - Mais de 50% da população urbana brasileira concentra-se na Região Sudeste.
 - A população urbana do Sudeste será, aproximadamente, de 70 milhões, em 1990.
 - No Sudeste, a população urbana é dez vezes superior à rural.
- 42
- Cerca de 70% da população indiana depende da agricultura. Assim sendo, a economia da Índia vincula-se à produção da terra. Entretanto,
- apesar da Reforma Agrária aplicada, a estrutura social vigente, no campo, não favorece as mudanças.
 - sua produtividade é uma das mais baixas do mundo, em função das irregularidades climáticas e pobreza tecnológica.
 - a produção agrícola tem-se mantido estável, nos últimos dez anos.
 - a Índia, dia a dia, cuida em estimular a indústria pesada, em detrimento das atividades agrárias.
 - há escassez de bons espaços agrários para o cultivo.

As questões de números 43 a 47 devem ser respondidas de acordo com o mapa abaixo.



- 43 A zona indicada no mapa, pelo n.º 1, destaca-se em razão da
- a) criação extensiva de gado bovino, tendo por base suas ricas pastagens naturais.
 - b) atividade pecuária, de engorda, especializada na criação de reprodutores.
 - c) produção agrícola praticada sob regime de policultura, em pequenas e médias propriedades.
 - d) concentração de indústrias siderúrgicas e metalúrgicas, em função de seus recursos naturais.
 - e) ocorrência de centros urbano-industriais, voltados ao beneficiamento da produção algodoeira do norte do estado.
- 44 A zona indicada no mapa, pelo n.º 2, corresponde à área
- a) da Grande São Paulo.
 - b) de solos de terra-roxa, no Sudeste.
 - c) mais expressiva, em termos de produção agrícola do país voltada ao consumo interno.
 - d) de concentração da produção cafeeira do país.
 - e) de maior concentração urbano-industrial do país.
- 45 A zona indicada no mapa, pelo n.º 3, tem por atividade econômica predominante a
- a) pecuária intensiva.
 - b) pecuária extensiva.
 - c) grande lavoura comercial.
 - d) policultura de gêneros alimentícios.
 - e) atividade extrativa mineral.

- 46 Na zona indicada no mapa, pelo n.º 4, encontra-se a região
- a) onde há predomínio da produção cafeeira baseada na monocultura e no latifúndio.
 - b) de povoamento mais antigo do estado do Paraná.
 - c) cognominada, por suas características físicas e econômicas, de "porta do Centro-oeste"
 - d) cujos sistemas de utilização da terra são semelhantes aos do oeste paulista.
 - e) de maior influência européia, no estado do Paraná.

- 47 A zona indicada no mapa, pelo n.º 5, tem por base econômica

- a) a extração carbonífera.
- b) a policultura associada à pecuária.
- c) a pecuária extensiva.
- d) a monocultura cafeeira.
- e) o extrativismo da erva-mate.

48

PAÍS	POPULAÇÃO (milhões de hab.)	HAB./km ²
FRANÇA	53	97,08
REINO UNIDO	56	228,90
EUA	217	23,16
URSS	259	11,55
CHINA	866	90,54
ÍNDIA	626	191,50

Fonte: Imagens Econômicas do Mundo 1978

De acordo com o quadro acima,

- a) A URSS é o país de menor população absoluta e relativa.
 - b) Os EUA apresentam a mais alta densidade demográfica do mundo ocidental.
 - c) Mesmo apresentando uma população numericamente superior, a França tem uma densidade demográfica menor que a Índia.
 - d) Apesar da enorme massa populacional, a densidade demográfica chinesa não é excessiva.
 - e) No mundo oriental, o país mais populoso é a Índia.
- 49 Xangai é responsável por 20% da produção industrial da China. É o centro mais tradicional da indústria
- a) siderúrgica.
 - b) automobilística.
 - c) química.
 - d) de armamentos nucleares.
 - e) têxtil.

As questões de números 50 e 51 devem ser respondidas de acordo com o mapa



50

Cada letra indicada no mapa corresponde à localização de um centro urbano que deve ser identificado, conforme as alternativas.

- () Abriga o principal porto da costa pacífica, apresentando uma população cosmopolita com milhares de asiáticos.
- () Situado num dos vales da cordilheira andina, possui um marcante crescimento econômico. Liga-se à costa pelo porto de La Guayra.
- () É o centro financeiro do mundo ocidental, sede da ONU, e realiza 25% do comércio exterior do seu país, no maior porto nacional.
- () Seu sítio é de planície e como grande metrópole, abriga mais de 30% da população total do país.
- () É importante centro da indústria pesada e se situa nas margens do Michigan, possuindo mais de 7 milhões de cidadãos.

Preenchidos os parênteses com as letras correspondentes, obtém-se a seqüência

a) DACEB

b) ADCEB

c) EABCD

d) DBCAE

e) CABED

- 51 As áreas enumeradas, no mapa, correspondem às
- a) maiores concentrações industriais das Américas.
 - b) maiores reservas de carvão do continente.
 - c) grandes jazidas petrolíferas das Américas.
 - d) zonas de intensa atividade criatória.
 - e) principais áreas agrícolas das Américas.
- 52 Analisando-se a população da República Sul-Africana, pode-se afirmar que
- a) a população branca, embora cresça em número, diminui percentualmente em relação à população de cor, que aumenta num ritmo maior.
 - b) os descendentes dos britânicos são mais ardorosos na defesa da segregação racial.
 - c) o grupo humano mais importante é o dos afrikanders.
 - d) surgem, a cada dia, novas políticas de estímulo à imigração.
 - e) em razão do "apartheid", não existem mestiços.
- 53 A monoexportação contribui para a instabilidade econômica de um país. Assim, a Venezuela, com seu comércio petrolífero, depende fortemente do
- a) Mercado Comum Europeu e Leste Asiático.
 - b) Brasil e EUA.
 - c) Mercado Comum Europeu e EUA.
 - d) Mercado Comum Centro Americano e Europa.
 - e) Mercado Comum Centro Americano e EUA.
- 54 A República Sul-Africana é, dentre as nações da África, a mais conhecida geologicamente e a mais rica em recursos minerais, destacando-se o
- a) ouro, o diamante e o ferro.
 - b) petróleo, o carvão e o ouro.
 - c) diamante, o carvão e o ouro.
 - d) diamante, o petróleo e o ferro.
 - e) ouro, o carvão e o alumínio.
- 55 Sua revolução industrial transformou o país no centro econômico do mundo, durante o século XIX. Grandes reservas carboníferas também favoreceram o seu expansionismo. O texto se refere à(ao)
- a) Índia.
 - b) Alemanha.
 - c) França.
 - d) Reino Unido.
 - e) Canadá.